

1 Обчисли.

$6 + 3 - 7 = \square$

$40 + 20 = \square\square$


$8 - 5 + 2 = \square$

$63 - 3 = \square\square$


$7 - 4 + 5 = \square$

$74 - 10 = \square\square$

2 Розв'яжи задачі.

 Улітку Тарас прочитав 10 книжок, а Роман — на 8 книжок більше. Скільки книжок прочитав Роман?

Відповідь:

 В автобусі їхало 27 дорослих і 7 дітей. На скільки більше було дорослих, ніж дітей?

Відповідь:

3 Підкресли в поданих числах: цифру, що позначає кількість десятків, однією рисою; цифру, що позначає кількість одиниць, двома рисками.

19 28 34 50 71 44 86 97

4 Накресли відрізок завдовжки 1 дм.

## 1 Заповни таблицю.

Доданок	4	6	<input type="text"/>	8	5	<input type="text"/>
Доданок	5	<input type="text"/>	5	<input type="text"/>	3	2
Сума	<input type="text"/>	9	7	10	<input type="text"/>	8

## 2 Обчисли. Підкресли рівності, де потрібно знайти різницю.

$60 - 1 = \square \square$

$75 - 5 = \square \square$


$39 + 1 = \square \square$

$29 + 1 = \square \square$

$53 - 3 = \square \square$

$60 + 9 = \square \square$

## 3 Розв'яжи задачу.

 На лужку паслося 10 козенят, потім привели ще трьох. Скільки козенят стало на лужку?

Відповідь:

## 4 Знайди загальну кількість листочків: обчисли різними способами.

