

Натисніть тут, щоб

КУПИТИ КНИГУ НА САЙТІ

або

замовляйте по телефону:

(0352) 28-74-89, 51-11-41

(067) 350-18-70

(066) 727-17-62

Н.О. Будна, Т.В. Гладюк, М.М. Гладюк

ПРИРОДОЗНАВСТВО

Картки для самостійної роботи

4 клас

*Схвалено для використання у загальноосвітніх навчальних закладах комісією
з педагогіки та методики початкового навчання
Науково-методичної ради з питань освіти
Міністерства освіти і науки України*



ТЕРНОПІЛЬ
НАВЧАЛЬНА КНИГА – БОГДАН

УДК 502.2(075.2)
ББК 20.18я71
Б90

Схвалено для використання у загальноосвітніх навчальних закладах комісією
з педагогіки та методики початкового навчання
Науково-методичної ради з питань освіти
Міністерства освіти і науки України
(лист ІМЗО від 04.05.2016 р. № 2.1/12-Г-190)

Будна Н.О.

Б90 Природознавство. Картки для самостійної роботи : 4 кл.
/ Н.О. Будна, Т.В. Гладюк, М.М. Гладюк. — Тернопіль : Навчальна
книга – Богдан, 2016. — 96 с.

ISBN 978-966-10-4155-3

У посібнику запропоновано картки, зміст яких відповідає
навчальній програмі з природознавства, 4 клас.

Їх використання допоможе вчителю оперативно перевірити
знання учнів, урізноманітнити роботу на уроці та формувати
інтерес до вивчення природознавства.

Для учнів та вчителів четвертих класів.

УДК 502.2(075.2)
ББК 20.18я71

*Охороняється законом про авторське право.
Жодна частина цього видання не може бути відтворена
в будь-якому вигляді без дозволу автора чи видавництва.*

ISBN 978-966-10-4155-3

© Навчальна книга — Богдан, 2016

ВСЕСВІТ І СОНЯЧНА СИСТЕМА

УЯВЛЕННЯ ДАВНІХ ЛЮДЕЙ ПРО ЗЕМЛЮ І ВСЕСВІТ

1. Познач (✓) зображення фігури, форма якої відповідає уявленням давніх людей про Землю.



2. Продовж речення, вибравши правильний варіант відповіді.

Давні люди вважали центром Всесвіту

- Землю Місяць
 Сонце зорі


3. Продовж речення, вибравши правильний варіант відповіді.

Давні люди уявляли Землю... .

- рухомим тілом нерухомим тілом

СОНЯЧНА СИСТЕМА, ЇЇ СКЛАД. СОНЦЕ — ЗОРЯ, ЦЕНТРАЛЬНЕ ТІЛО СОНЯЧНОЇ СИСТЕМИ

1. Вкажи, на якому малюнку зображено Сонячну систему.

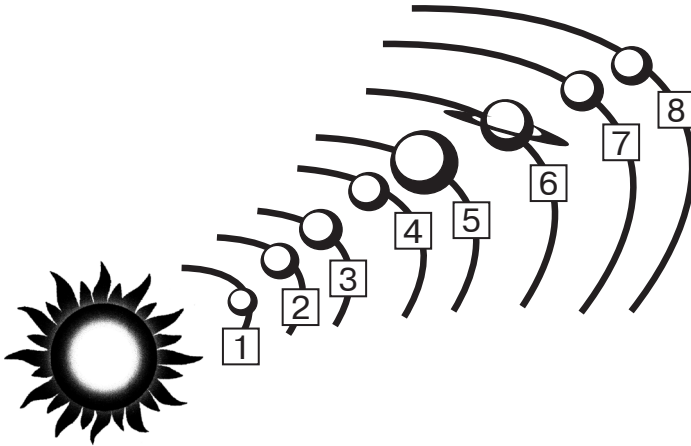


2. Продовж речення.

Сонячну систему утворюють _____

ПЛАНЕТИ ТА ІНШІ КОСМІЧНІ ТІЛА

1. З'єднай стрілками цифри на малюнку з назвами відповідних планет.




- Марс
- Юпітер
- Нептун
- Земля
- Венера
- Меркурій
- Сатурн
- Уран

2. Запиши назви космічних тіл (крім планет), які входять у Сонячну систему.

ЗЕМЛЯ — ПЛАНЕТА СОНЯЧНОЇ СИСТЕМИ

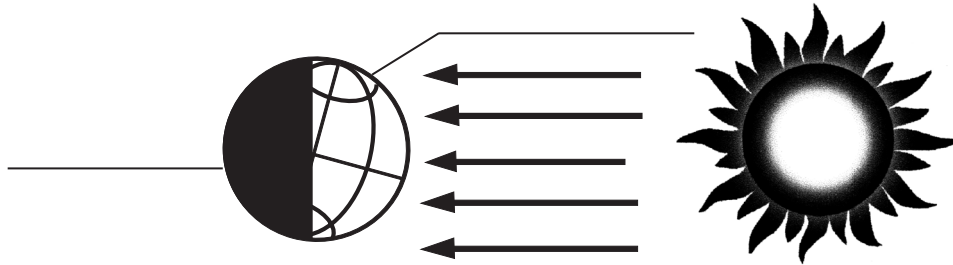
1. Вкажи, на якому малюнку правильно позначено екватор і полюси Землі.



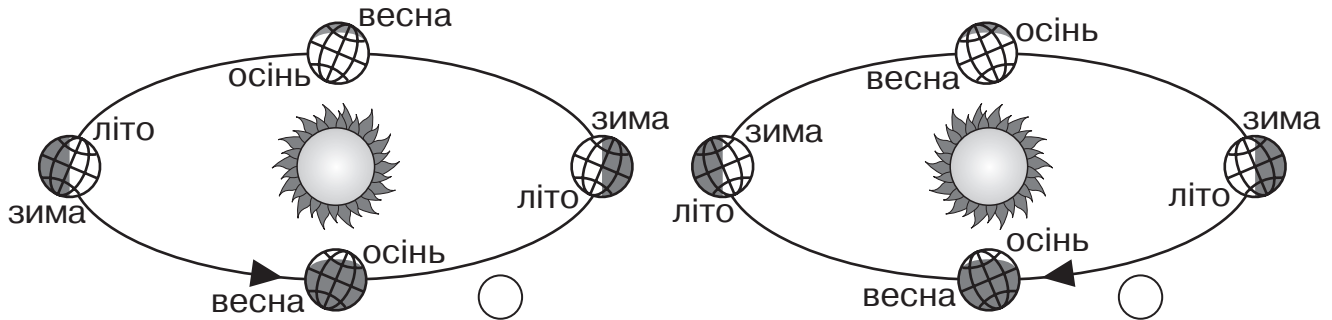
2. Запиши, у чому неповторність планети Земля.

ДОБОВИЙ І РІЧНИЙ РУХ ЗЕМЛІ

1. Запиши, на якому боці земної кулі день, а на якому — ніч.

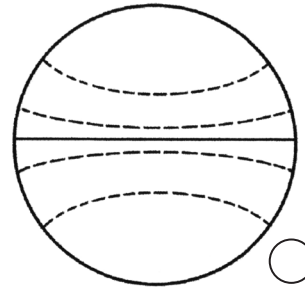
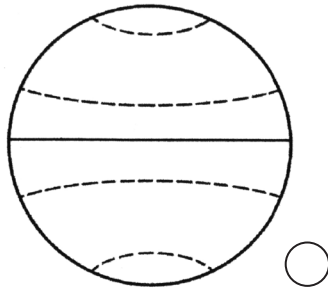


2. Познач малюнок, на якому правильно зображено зміну пір року.



ТЕПЛОВІ ПОЯСИ ЗЕМЛІ

1. Познач малюнок, на якому правильно позначені теплові пояси Землі.



2. Вкажи, яка частина земної поверхні отримує найменше сонячного тепла.

- поблизу північного полюса
- у помірному тепловому поясі
- поблизу екватора
- поблизу південного полюса