

О.М. Гнатківська
Н.Р. Хребтова

Математика
Поточний бліц-контроль знань
1 клас



ТЕРНОПІЛЬ
НАВЧАЛЬНА КНИГА – БОГДАН

УДК 51(076)
ББК 22.1я71
Г56

Гнатківська О.М.

Г56 Математика. Поточний бліц-контроль знань : 1 клас / О. М. Гнатківська, Н. Р. Хребтова — Тернопіль : Навчальна книга — Богдан, 2012. — 112 с.

ISBN 978-966-10-1822-7

Даний посібник відповідає новій базовій програмі з математики та Державному стандарту початкової освіти. Він містить картки із завданнями з математики для учнів першого класу, призначені для індивідуальної роботи у класі або вдома. Систематичне використання карток на уроці дасть можливість учителю перевірити якість засвоєння знань, вміння самостійно виконувати завдання.

Для вчителів початкових класів, учнів 1 класу та батьків.

УДК 51(076)
ББК 22.1я71

*Охороняється законом про авторське право.
Жодна частина даного видання не може бути відтворена
в будь-якому вигляді без дозволу автора чи видавництва.*

ISBN 978-966-10-1822-7


© Навчальна книга — Богдан,
майнові права, 2012

КАРТКА № 1

1) Розфарбуй грибочки, які ростуть справа від дерева.



2) Обведи три клітинки під рискою.




КАРТКА № 3

1) Розфарбуй м'ячик, який лялька тримає у лівій руці.



2) Обведи кубики, які лежать на столі.



КАРТКА № 61

1) Задача.



— 9



— ?, на 6 менше



Скільки ?

Розв'язання:

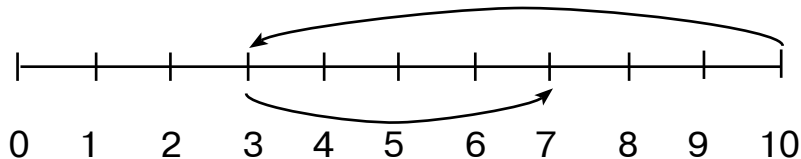
--	--	--	--	--

Відповідь:

--



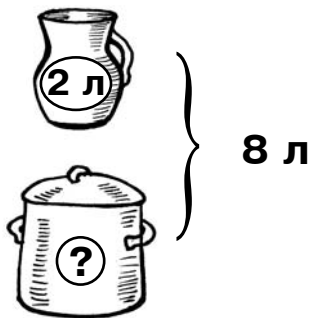
2)



$$\begin{array}{|c|c|} \hline 1 & 0 \\ \hline \end{array} - \square + \square = \square$$

КАРТКА № 63

1) Задача.



Розв'язання:

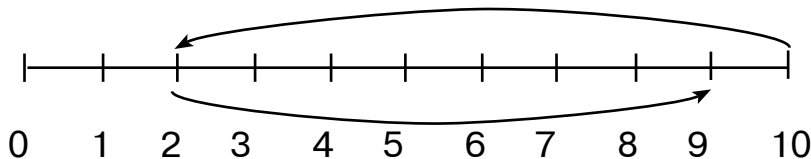
--	--	--	--	--

Відповідь:

--

 л.

2)



1	0
---	---

 -

--

 +

--

 =

--

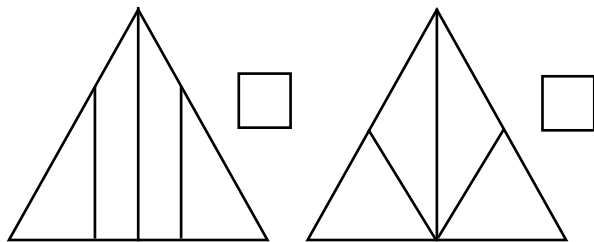
КАРТКА № 105


1) У ящику лежало 35 груш, а яблук — на 3 більше. Скільки яблук лежало в ящику?

Розв'язання: 

Відповідь: яблук.

2) На якому малюнку більше трикутників? На скільки більше?



Відповідь: на .

КАРТКА № 107

1) Бабуся спекла 25 булочок. 10 булочок було з вишнями, а решта — з яблуками.

а) Скільки булочок із яблуками спекла бабуся?

Розв'язання:

Відповідь: булочок.

б) На скільки більше булочок із яблуками, ніж з вишнями, спекла бабуся?

Розв'язання:

Відповідь: на булочок.

2) Обчисли.

$48 - 12 = \begin{array}{|c|c|} \hline & \\ \hline \end{array}$

$64 + 33 = \begin{array}{|c|c|} \hline & \\ \hline \end{array}$

$36 - 25 = \begin{array}{|c|c|} \hline & \\ \hline \end{array}$

$86 - 46 = \begin{array}{|c|c|} \hline & \\ \hline \end{array}$



Навчальне видання

ГНАТКІВСЬКА Оксана Мирославівна
ХРЕБТОВА Наталя Ростиславівна

МАТЕМАТИКА

**Поточний бліц-контроль знань
1 клас**

Головний редактор *Богдан Будний*
Редактор *Любов Левчук*
Обкладинка *Ростислава Крамара*
Комп'ютерна верстка *Тетяни Золосєвої*

Підписано до друку 05.03.2012. Формат 60х84/16. Папір офсетний.
Гарнітура Таймс. Умовн. друк. арк. 6,51. Умовн. фарбо-відб. 6,51.

Видавництво «Навчальна книга – Богдан»
Свідоцтво про внесення до Державного реєстру видавців
ДК №370 від 21.03.2001 р.

Навчальна книга – Богдан, просп. С. Бандери, 34а, м.Тернопіль, 46002
Навчальна книга – Богдан, а/с 529, м.Тернопіль, 46008
тел./факс (0352) 52-19-66; 52-06-07; 52-05-48
E-mail: office@bohdan-books.com, www.bohdan-books.com

ISBN 978-966-10-1822-7



9 | 789661 | 018227 |