


Додавання. 1 – 10



Я з'їв 2 шоколадні цукерки та 3 ледяника. Скільки всього цукерок я з'їв?





$$2 + 3 = 5$$

Доданок


Доданок

Сума


Знайди відповідь. Запиши числом.



Обчисли малюнкові приклади. Запиши вираз числами під малюнком.




$$\square + \square = \square$$



$$\square + \square = \square$$




$$\square + \square = \square$$



$$\square + \square = \square$$

Додаємо суму до числа. $15 + (5 + 7)$



Коли я додаю до числа суму двох чисел, то:

1. Спочатку шукаю ті числа, які легше додати:

$$15 + (5 + 7) = ? \rightarrow (15 + 5) + 7 = ?$$

2. А вже потім до отриманої суми додаю число, що залишилося:

$$20 + 7 = 27$$

Записую так:

$$15 + (5 + 7) = (15 + 5) + 7 = 20 + 7 = 27$$

Обчисли вирази. Знайди скарби Старовинного Єгипту.
Прямуй від меншої відповіді до більшої.



$16 + (4 + 3) =$

$7 + (3 + 2) =$

$38 + (7 + 2) =$

$25 + (8 + 5) =$

$44 + (6 + 7) =$

$12 + (5 + 8) =$

$51 + (9 + 3) =$

$68 + (4 + 2) =$

$59 + (1 + 6) =$

$33 + (7 + 4) =$

