

1. Установи закономірність і продовж ряди чисел.

- 0, 19, 38, 57, , ,
- 18, 48, 78, , ,

2. Заповни таблицю.

a	70	49	114	239	538	600	390	718
$a+1$	<input type="text"/>	<input type="text"/>	<input type="text"/>	<input type="text"/>	<input type="text"/>	<input type="text"/>	<input type="text"/>	<input type="text"/>
$a-1$	<input type="text"/>	<input type="text"/>	<input type="text"/>	<input type="text"/>	<input type="text"/>	<input type="text"/>	<input type="text"/>	<input type="text"/>
$a+0$	<input type="text"/>	<input type="text"/>	<input type="text"/>	<input type="text"/>	<input type="text"/>	<input type="text"/>	<input type="text"/>	<input type="text"/>
$a-0$	<input type="text"/>	<input type="text"/>	<input type="text"/>	<input type="text"/>	<input type="text"/>	<input type="text"/>	<input type="text"/>	<input type="text"/>

3. Запиши як суму розрядних доданків кожне з чисел.

$195 = \text{} \text{} \text{} \text{}$

$503 = \text{} \text{} \text{} \text{}$

$816 = \text{} \text{} \text{} \text{}$

$460 = \text{} \text{} \text{} \text{}$

4. Склади і запиши всі можливі рівності на додавання та віднімання, використавши числа:

$200, 37, 237;$

$800, 799, 1.$

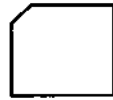
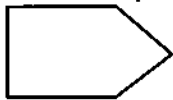

<input type="text"/>	<input type="text"/>	<input type="text"/>	<input type="text"/>	<input type="text"/>
<input type="text"/>	<input type="text"/>	<input type="text"/>	<input type="text"/>	<input type="text"/>
<input type="text"/>	<input type="text"/>	<input type="text"/>	<input type="text"/>	<input type="text"/>
<input type="text"/>	<input type="text"/>	<input type="text"/>	<input type="text"/>	<input type="text"/>
<input type="text"/>	<input type="text"/>	<input type="text"/>	<input type="text"/>	<input type="text"/>

<input type="text"/>	<input type="text"/>	<input type="text"/>	<input type="text"/>	<input type="text"/>
<input type="text"/>	<input type="text"/>	<input type="text"/>	<input type="text"/>	<input type="text"/>
<input type="text"/>	<input type="text"/>	<input type="text"/>	<input type="text"/>	<input type="text"/>
<input type="text"/>	<input type="text"/>	<input type="text"/>	<input type="text"/>	<input type="text"/>
<input type="text"/>	<input type="text"/>	<input type="text"/>	<input type="text"/>	<input type="text"/>

5. За три дні в магазині продали 980 м тканини. За перший день продали 340 м тканини, а за другий — 260 м. Скільки метрів тканини продали за третій день?

<input type="text"/>	<input type="text"/>	<input type="text"/>	<input type="text"/>	<input type="text"/>
<input type="text"/>	<input type="text"/>	<input type="text"/>	<input type="text"/>	<input type="text"/>
<input type="text"/>	<input type="text"/>	<input type="text"/>	<input type="text"/>	<input type="text"/>
<input type="text"/>	<input type="text"/>	<input type="text"/>	<input type="text"/>	<input type="text"/>
<input type="text"/>	<input type="text"/>	<input type="text"/>	<input type="text"/>	<input type="text"/>
<input type="text"/>	<input type="text"/>	<input type="text"/>	<input type="text"/>	<input type="text"/>
<input type="text"/>	<input type="text"/>	<input type="text"/>	<input type="text"/>	<input type="text"/>
<input type="text"/>	<input type="text"/>	<input type="text"/>	<input type="text"/>	<input type="text"/>
<input type="text"/>	<input type="text"/>	<input type="text"/>	<input type="text"/>	<input type="text"/>
<input type="text"/>	<input type="text"/>	<input type="text"/>	<input type="text"/>	<input type="text"/>

У кожній фігурі познач прямі кути.



1. Підкресли те значення змінної, за якого нерівність $867 - x > 456$ буде істинною.

а) 500; б) 510; в) 460; г) 257.

2. Запиши результати обчислень.

• Знайди суму чисел 517 і 300.

• Знайди різницю чисел 896 і 735.

• До суми чисел 440 і 20 додай 500.

• Суму чисел 300 і 70 зменш на 40.

3. Визнач кількість одиниць указанного розряду.

560 — дес.

193 — сот.

301 — од.

703 — дес.

820 — сот.

617 — од.

4.

$$\begin{array}{r} 348 \\ + 345 \\ \hline \end{array}$$

$$\begin{array}{r} 382 \\ + 557 \\ \hline \end{array}$$

$$\begin{array}{r} 863 \\ - 454 \\ \hline \end{array}$$

$$\begin{array}{r} 906 \\ - 653 \\ \hline \end{array}$$

5. У науково-дослідному інституті провели експеримент. Деякий час одну групу курей напували звичайною водою, а іншу — талою. Перша група курей знесла за цей період 272 яйця, а друга — 538 яєць. На скільки більше яєць знесла друга група курей, ніж перша?

Розділи двома лініями прямокутник на чотири частини так, щоб дві з них мали форму трикутника, а дві інші — форму чотирикутника.

