

Натисніть тут, щоб

**КУПИТИ КНИГУ НА САЙТІ**

або

**замовляйте по телефону:**

(0352) 28-74-89, 51-11-41

(067) 350-18-70

(066) 727-17-62

Марко Беденко

# ЗАХОПЛЮЮЧА ЛІТНЯ ШКОЛА

З 2-го у 3-й клас

- літературне читання
- українська мова
- математика
- природознавство



Тернопіль

Навчальна книга — Богдан

**Беденко М.В.**

Б38 Захоплююча літня школа. З 2-го у 3-й клас. —  
Тернопіль : Навчальна книга — Богдан, 2016. — 120 с.

**ISBN 978-966-10-0792-4**

Кожен із батьків хоче, щоб його дитина не тільки добре відпочила влітку, загартувалася, набралася сил, але й не забула вивченого в школі. Як цього досягти?

У запропонованому посібнику на кожному розвороті подано завдання для повторення пройденого за предметами: літературне читання, математика, українська мова та природознавство.

Матеріал дібрано так, щоб процес повторення не був нудним, а пізнавальним і цікавим. Виконуючи завдання, серед яких багато розвивальних і творчих, дитина не тільки пригадає вивчене, але й значно розширить свій кругозір.

ББК 74.26 я71

*Охороняється законом про авторське право.  
Жодна частина цього видання не може бути відтворена  
в будь-якому вигляді без дозволу автора чи видавництва*

## ПЕРЕДМОВА

— Влітку теж потрібно займатися, — кажуть педагоги.

— Влітку не хочеться займатися, — кажуть діти.

Звісно, і ті, й інші мають рацію. Тому ми створили такий посібник для занять улітку, щоб усі були задоволені: діти, вчителі, батьки. Учителям та батькам не доведеться витратити час на пошуки матеріалу для повторення вивченого дитиною протягом навчального року, а школяр отримає можливість не тільки повторити та закріпити вивчене, а й розширити свій кругозір.

На кожному розвороті зошита вміщено невеликий за обсягом цікавий текст, що містить пізнавальну інформацію не лише для дитини, а й для її батьків.

Незвичні за формою завдання з математики діти сприймають як гру, однак їх достатньо, щоб школярі протягом літа не втратили обчислювальних навичок.

Логічні задачі та завдання на кмітливість під час звичайного шкільного уроку не всі розв'язують легко й швидко. А в “літньому” зошиті кожен приділить їм стільки часу, скільки потрібно. Або — скільки захоче.

Вправи з української мови невеликі за обсягом і нестандартні за формою, але вони допоможуть узагальнити і закріпити здобуті протягом навчального року орфографічні й пунктуаційні навички.

Загалом, “Захоплююча літня школа” — не складно, не нудно і буде чим потім похвалитися.

1

## Дорогі чашки

Порцеляну винайшли в Китаї в 620 р. В Європі її навчилися виробляти лише через 1100 років. Європа — світ не близький. Порцеляну доводилося довго везти або кораблями, або верблюдами через пустелю. Не дивно, що вона була дорожча, ніж золото. Навіть уламки від побитого в дорозі посуду обрамляли як картини і оздоблювали ними стіни будинків.



### Вибери правильну відповідь.

Де вперше створили порцеляну?

- В Китаї       В Індії       В Англії

2

### Встав пропущені літери. Запиши кількість звуків і букв у кожному слові.

Згра\_\_\_ — \_\_\_\_\_ звуків, \_\_\_\_\_ букв.

Укра\_\_\_на — \_\_\_\_\_ звуків, \_\_\_\_\_ букв.

\_\_\_блуко — \_\_\_\_\_ звуків, \_\_\_\_\_ букв.

Міс\_\_\_ц\_\_\_ — \_\_\_\_\_ звуків, \_\_\_\_\_ букв.

Зор\_\_\_ — \_\_\_\_\_ звуків, \_\_\_\_\_ букв.

3

### Пригадай правило написання слів з великої букви. Виправ помилки.

Оленка, петрусь, весна, Осінь, сергійко, мурчик, Рябко, котик, іваненко, київ, місто.

4

### Склади речення. Підкресли головні слова.

Дніпро, Києві, у, протікає, місті, річка.

---



---



---



---

5

У палаці було 23 вази з Китаю, а до-  
рогоцінних чашок — на 16 більше.  
Скільки ваз і чашок разом було у па-  
лаці?



**Розв'язання:**

$$\square\square\square\square = \square\square$$

$$\square\square\square\square = \square\square$$

**Відповідь.**  $\square\square$  \_\_\_\_\_

6

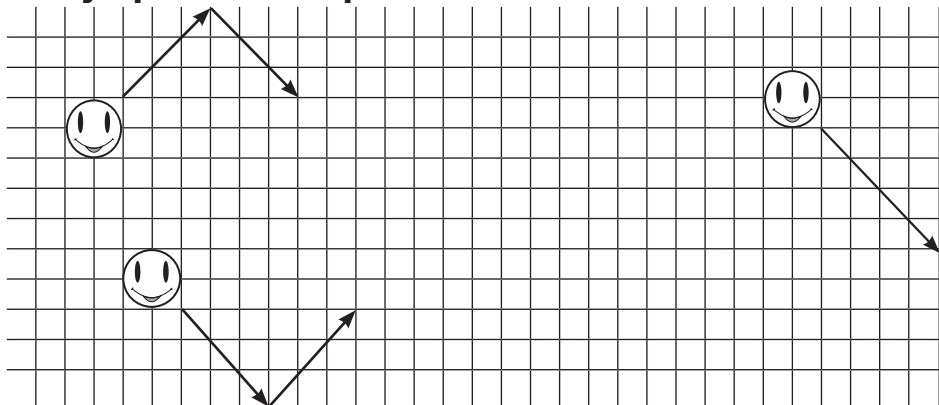
Розглянь, як розшифрували слово за допомо-  
гою значень виразів. У решті стовпчиків зроби  
так само.

А	Т	Я	С	В	О	Н	Е
76	15	87	25	38	57	53	65

64-26=	$\begin{matrix} 3 & 8 \\ 6 & 5 \end{matrix}$	В	12+13=	$\begin{matrix} \square & \square \\ \square & \square \end{matrix}$	14+24=	$\begin{matrix} \square & \square \\ \square & \square \end{matrix}$
26+39=	$\begin{matrix} 6 & 5 \\ 2 & 5 \end{matrix}$	е	99-61=	$\begin{matrix} \square & \square \\ \square & \square \end{matrix}$	13+44=	$\begin{matrix} \square & \square \\ \square & \square \end{matrix}$
50-25=	$\begin{matrix} 2 & 5 \\ 5 & 3 \end{matrix}$	с	75+12=	$\begin{matrix} \square & \square \\ \square & \square \end{matrix}$	55-17=	$\begin{matrix} \square & \square \\ \square & \square \end{matrix}$
15+38=	$\begin{matrix} 5 & 3 \\ 7 & 6 \end{matrix}$	н	29-14=	$\begin{matrix} \square & \square \\ \square & \square \end{matrix}$	15+38=	$\begin{matrix} \square & \square \\ \square & \square \end{matrix}$
42+34=	$\begin{matrix} 7 & 6 \\ \square & \square \end{matrix}$	а	28+29=	$\begin{matrix} \square & \square \\ \square & \square \end{matrix}$	52+24=	$\begin{matrix} \square & \square \\ \square & \square \end{matrix}$

7

Усміхнені м'ячики відстрибують від стіни під  
тим самим кутом, що й вдаряються об неї. На-  
малюй стрілку, яка вкаже шлях після удару об  
стіну крайнього правого м'ячика.



1

## Соляні шахти

Давним–давно сіль випарювали з морської води чи збирали з дна солоних озер. Тепер її добувають у глибоких шахтах. У ході видобування утворюються величезні коридори та просторі зали. В одній такій залі обладнали цілий собор, у другій — концертний зал. Вогні так красиво виграють на соляних стінах, що обидві споруди мерехтять, наче кришталеві.



### Вибери правильну відповідь

Який продукт добувають з–під землі?

Цукор

Сіль

Оливкову олію

2

### Запиши звукові схеми наведених слів за зразком.

[ і м й а ] — ім'я

[ \_\_\_\_\_ ] — ялина

[ \_\_\_\_\_ ] — моряк

[ \_\_\_\_\_ ] — дощечка

[ \_\_\_\_\_ ] — їжаки

3

### Розбий текст на речення. Запиши. Добери заголовок.

Київ — столиця України це дуже велике і красиве місто у ньому багато парків і скверів а ви були у Києві?

---



---



---



---




---



---

4

У підземному палаці із солі вирізали 6 стільців і стільки ж табуреток. Скільки всього предметів меблів вирізали із солі?



**Розв'язання:**

$$\square\square \ominus \square\square = \square\square$$

$$\square\square \ominus \square\square = \square\square$$

**Відповідь.**

5

Подивись, як заповнений числовий кросворд зліва, і так само заповни кросворд справа.

1	0	+	2	0	=	3	0
+			+			+	
4	0	+	1	0	=	5	0
=			=			=	
5	0	+	3	0	=	8	0

4	0	-	3	0	=		
-			-			-	
2	0	-	1	0	=		
=			=			=	
		-			=		

6

Закресли поняття, яке не відповідає слову “чашка”.

розбита


вузька

порожня

квакаюча

7

На цьому малюнку можна побудувати прямокутник і прямокутний трикутник, у вершинах яких розташовані зірочки. Побудуй фігуру, всередині якої буде більше квіточок.




7



1

## Підземні лікарні

Старі соляні шахти набули ще однієї “професії” — в них лікують хворих. Навіть нетривале перебування у соляному санаторії покращує стан людей із хворими легенями. Причому дія лікування продовжується і тоді, коли хворі повертаються до звичного життя.



### Вибери правильну відповідь.

Навіщо хворі люди спускаються у соляні шахти?

- Вони там вчаться
- Вони там лікуються
- Виконують неважку роботу

2

### Пошир речення за допомогою слів у дужках.

Настало літечко. (Тепле, чарівне.)

.....

.....

.....

Світить сонце. (Яскраве, лагідно.)

.....

.....

.....

Зацвіли квіти. (На луках, ніжні.)

.....

.....

.....

3

У підземному санаторії працюють 5 лікарів і 9 медсестер. Скільки всього медпрацівників працює в санаторії?



**Розв'язання:**

$$\square\square \ominus \square\square = \square\square$$

$$\square\square \oplus \square\square = \square\square$$

**Відповідь.**  $\square\square$  \_\_\_\_\_

4

З'єднай пазли з виразами, що мають однакові значення.

$$12 - 7$$

$$2 + 9$$

$$17 - 8$$

$$11 - 4$$

$$13 - 7$$

$$4 + 3$$

$$14 - 9$$

$$11 - 5$$

$$15 - 4$$

$$13 - 4$$

5

Обведи коlobка, розташованого на малюнку третім зліва.



6

З'єднай стрілочками протилежні за змістом слова.

солодкий

чорний

ласкавий

чесний

грубий

гіркий

білий

брехливий