

1 Запиши числа у вигляді суми розрядних доданків.

124 =

--	--	--	--	--	--	--	--	--	--	--	--	--


530 =

--	--	--	--	--	--	--	--	--	--	--	--	--

706 =

--	--	--	--	--	--	--	--	--	--	--	--	--

2 Склади і розв'яжи задачу. Скільки коней було на фермі?



— 100 тв.



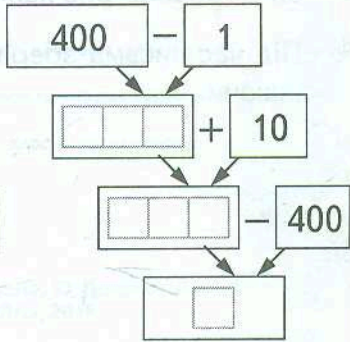
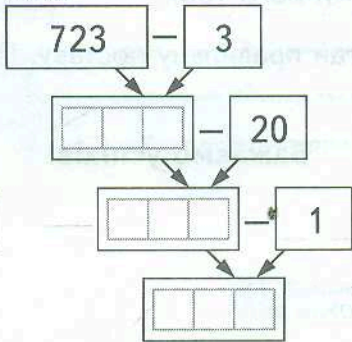
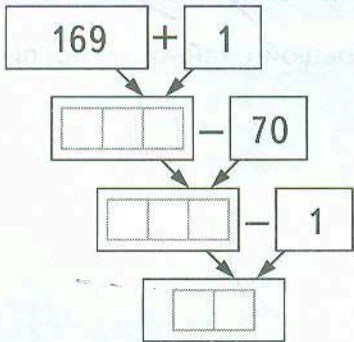
— ?, на 38 тв. більше, ніж



— (?), на 130 тв. менше, ніж

Розв'язання

3 Заповни блок-схеми.



1 Заповни таблиці.


a	472	123	<input type="text"/> *
b	326	<input type="text"/>	654
$a + b$	<input type="text"/>	548	960

a	938	<input type="text"/>	879
b	715	270	<input type="text"/>
$a - b$	<input type="text"/>	421	167


2 Розв'яжи задачу.

Ательє закупило гудзики. Після того, як на 8 пальт пришили по b гудзиків на кожне, залишилося 400 гудзиків. Скільки гудзиків закупило ательє? Склади вираз та знайди його значення, якщо $b = 10$.

Розв'язання



3 Серед поданих фігур знайди квадрат. Обчисли його периметр.



4* Устав такі однакові числа, щоб обидві нерівності стали істинними.


$$549 - \square < 541$$

$$\square + 371 > 379$$

1 Обчисли.

$$\begin{array}{r}
 + 538 \\
 \hline
 + 254 \\
 \hline
 \end{array}
 \quad
 \begin{array}{r}
 + 471 \\
 \hline
 + 509 \\
 \hline
 \end{array}
 \quad
 \begin{array}{r}
 - 607 \\
 \hline
 - 488 \\
 \hline
 \end{array}
 \quad
 \begin{array}{r}
 - 594 \\
 \hline
 - 268 \\
 \hline
 \end{array}
 \quad
 \begin{array}{r}
 - 731 \\
 \hline
 - 496 \\
 \hline
 \end{array}$$

2 Склади і розв'яжи задачу.




— 170 шт., на 18 шт. менше, ніж

— ?


— (?)

} 381 шт.

Розв'язання



3 Побудуй прямокутник, ширина якого 2 см, а довжина — у 4 рази більша. Обчисли його периметр.



1 Обчисли.

$0 : 43 + 430 : 1 = \square \square$

$612 \cdot 1 - 21 \cdot 0 = \square \square \square$


$700 : 100 + 2 \cdot 100 = \square \square \square$

$390 : 10 + 88 : 88 = \square \square$

2 Розв'яжи задачу.

Для ремонту чотирьох однакових класів знадобилося 32 рулони шпалер. Скільки рулонів шпалер знадобиться для ремонту 9 таких класів школи?

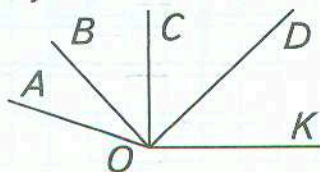
Розв'язання



3 Заповни таблицю.

a	40	$\square \square$	$\square \square$	200	$\square \square$
b	2	2	4	3	8
$a \cdot b$	$\square \square$	800	280	$\square \square \square$	640

4* Запиши множини кутів.

Тупі кути: $\square \square \square \square \square \square$ Прямі кути: $\square \square \square \square \square \square$ Гострі кути: $\square \square \square \square \square \square$