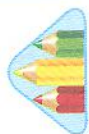




## Дія додавання



1. Найдовшу смужку розфарбуй жовтим кольором, найкоротшу — синім, однакові — червоним.

\_\_\_\_\_

\_\_\_\_\_

\_\_\_\_\_

\_\_\_\_\_

2. Склади вирази за малюнками. Обчисли їхнє значення й запиши.



$$\square + \square = \square$$



$$\square + \square = \square$$

3. Склади вирази за малюнками. Обчисли їхнє значення й запиши.



$$\square + \square = \square$$



$$\square + \square = \square$$


4. Хто на малюнку найвищий? Хто найнижчий? За допомогою вертикальних відрізків зобрази зріст кожного ведмедя.






# Склад числа 3

1. Полічи та порівняй (> ; < ; =).



2. Заповни порожні клітинки.




3	1	3	
			1



$3 = 1 + 1 + \square$

3. Проведи кожного песика до його будки.



4. Скільки всього бігунів? Запиши. У якому напрямку вони біжать? Познач напрямок стрілкою.



5. Виконай за зразком.

