

Дата: _____ Клас: _____ Прізвище, ім'я: _____

ВЗАЄМОДІЯ СУСПІЛЬСТВА І ПРИРОДИ. СВІТОВІ ПРИРОДНІ РЕСУРСИ

1. Як називається сукупність всіх видів впливу господарської діяльності людини на природу?

- | | | |
|--|---|---|
| <input type="checkbox"/> А навколишнім середовищем | <input type="checkbox"/> Б антропосферою | А Б В Г |
| <input type="checkbox"/> В ресурсозабезпеченістю | <input type="checkbox"/> Г природокористуванням | <input type="checkbox"/> <input type="checkbox"/> <input type="checkbox"/> <input type="checkbox"/> |

2. Укажіть правильне твердження щодо природокористування.

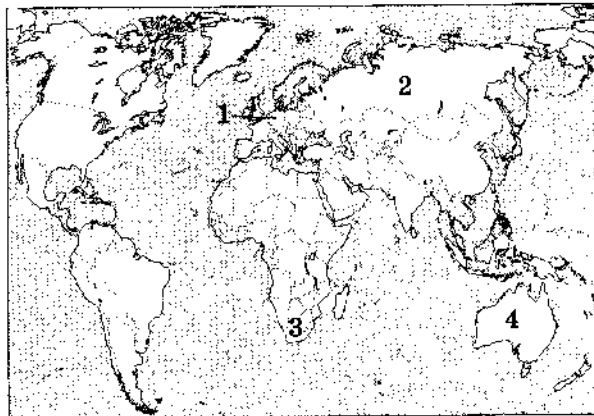
- | | |
|--|---|
| <input type="checkbox"/> А сукупність природних компонентів, що впливають на життя й господарську діяльність людини | А Б В Г |
| <input type="checkbox"/> Б сукупність компонентів природи, які використовує або може використовувати людина у своїй господарській діяльності | <input type="checkbox"/> <input type="checkbox"/> <input type="checkbox"/> <input type="checkbox"/> |
| <input type="checkbox"/> В сукупність заходів, що вживає суспільство з метою використання і перетворення навколишнього середовища | |
| <input type="checkbox"/> Г застосування нових технологій | |

3. Нерівномірне забезпечення країн світу земельними ресурсами пояснюється особливостями:

- | | | |
|---|--|---|
| <input type="checkbox"/> А геологічної будови | <input type="checkbox"/> Б клімату | А Б В Г |
| <input type="checkbox"/> В тектонічної будови | <input type="checkbox"/> Г водних ресурсів | <input type="checkbox"/> <input type="checkbox"/> <input type="checkbox"/> <input type="checkbox"/> |

4. Укажіть цифру, якою на картосхемі позначена країна, що забезпечена практично всіма відомими видами ресурсів.

- А 1
- Б 2
- В 3
- Г 4



А Б В Г

5. Установіть відповідність між видами природних ресурсів та їх прикладами.

- | | |
|--------------------------|-------------------------------|
| 1 мінеральні | А середземноморське узбережжя |
| 2 водні | Б гілея |
| 3 рекреаційні кліматичні | В термальні води Ісландії |
| 4 біологічні | Г Курська магнітна аномалія |
| | Д озеро Байкал |

	А	Б	В	Г	Д
1					
2					
3					
4					

6. Установіть послідовність зростання об'єму річкових вод по регіонах світу.

- А Південна Америка
- Б Північна Америка
- В Африка
- Г Азія

	А	Б	В	Г
1				
2				
3				
4				

Бланк відповідей

1 **А Б В Г**

А Б В Г

3 **А Б В Г**

А Б В Г

5 **А Б В Г Д**

6 **А Б В Г**

Дата: _____ Клас: _____ Прізвище, ім'я: _____

СВІТОВЕ ГОСПОДАРСТВО В ЕПОХУ НТР

1. Спеціалізація країн на виробництві певних видів продукції та послуг для задоволення потреб світового ринку називається:

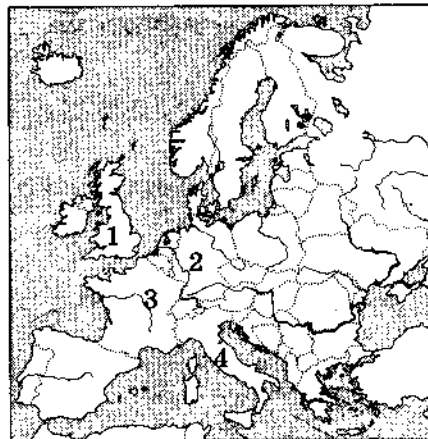
- | | | |
|--|--|---|
| <input type="checkbox"/> А внутрішнім ринком | <input type="checkbox"/> Б економічною інтеграцією | А Б В Г |
| <input type="checkbox"/> В міжнародним поділом праці | <input type="checkbox"/> Г світовим господарством | <input type="checkbox"/> <input type="checkbox"/> <input type="checkbox"/> <input type="checkbox"/> |

2. Укажіть назву країни, яка відмовляється скоротити промислові викиди в атмосферне повітря.

- | | | |
|----------------------------------|-----------------------------------|---|
| <input type="checkbox"/> А Росія | <input type="checkbox"/> Б Індія | А Б В Г |
| <input type="checkbox"/> В Китай | <input type="checkbox"/> Г Канада | <input type="checkbox"/> <input type="checkbox"/> <input type="checkbox"/> <input type="checkbox"/> |

3. Укажіть цифру, якою на картосхемі позначена країна — лідер Європейського Союзу за розмірами ВВП.

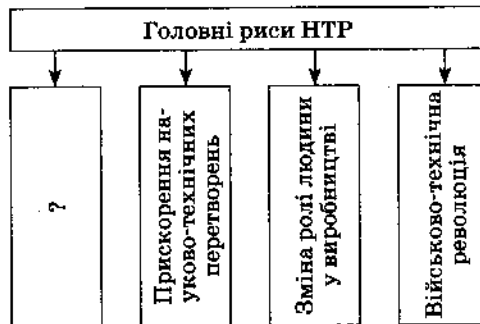
- А 1
- Б 2
- В 3
- Г 4



- А Б В Г**

4. Виберіть рису НТР, пропущену в схемі.

- А космізація
- Б електронізація
- В універсальність
- Г кібернетизація



- А Б В Г**

5. Установіть відповідність між головними складовими частинами НТР та прикладами впливу на них.

- | | |
|------------------------|--|
| 1 наука та освіта | А створення нових матеріалів |
| 2 техніка і технологія | Б упровадження дистанційних методів навчання |
| 3 виробництво | В контейнерна революція |
| 4 управління | Г роботизація підприємств |
| | Д комп'ютеризація |

	А	Б	В	Г	Д
1	<input type="checkbox"/>	<input type="checkbox"/>	<input type="checkbox"/>	<input type="checkbox"/>	<input type="checkbox"/>
2	<input type="checkbox"/>	<input type="checkbox"/>	<input type="checkbox"/>	<input type="checkbox"/>	<input type="checkbox"/>
3	<input type="checkbox"/>	<input type="checkbox"/>	<input type="checkbox"/>	<input type="checkbox"/>	<input type="checkbox"/>
4	<input type="checkbox"/>	<input type="checkbox"/>	<input type="checkbox"/>	<input type="checkbox"/>	<input type="checkbox"/>

6. Установіть відповідність між назвою країни та її міжнародною спеціалізацією.

- | | |
|------------|----------------------------|
| 1 Канада | А експорт овочів |
| 2 Болгарія | Б експорт пшениці |
| 3 Кувейт | В експорт риби |
| 4 Замбія | Г експорт рафінованої міді |
| | Д експорт нафти |

	А	Б	В	Г	Д
1	<input type="checkbox"/>	<input type="checkbox"/>	<input type="checkbox"/>	<input type="checkbox"/>	<input type="checkbox"/>
2	<input type="checkbox"/>	<input type="checkbox"/>	<input type="checkbox"/>	<input type="checkbox"/>	<input type="checkbox"/>
3	<input type="checkbox"/>	<input type="checkbox"/>	<input type="checkbox"/>	<input type="checkbox"/>	<input type="checkbox"/>
4	<input type="checkbox"/>	<input type="checkbox"/>	<input type="checkbox"/>	<input type="checkbox"/>	<input type="checkbox"/>