

Будеш льодяники?  
У мене аж 6!



Юля

$$\begin{array}{l}
 + 2 \\
 1 + 2 = 3 \\
 2 + 2 = 4 \\
 3 + 2 = 5 \\
 4 + 2 = 6 \\
 5 + 2 = 7 \\
 6 + 2 = 8 \\
 7 + 2 = 9 \\
 8 + 2 = 10
 \end{array}$$


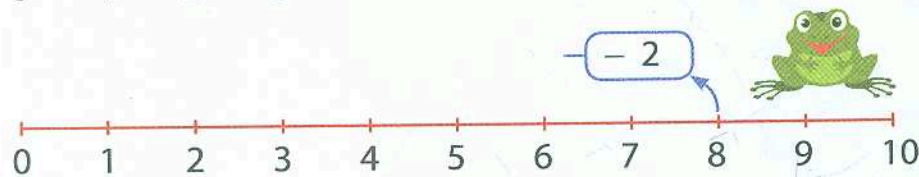
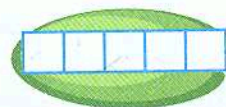
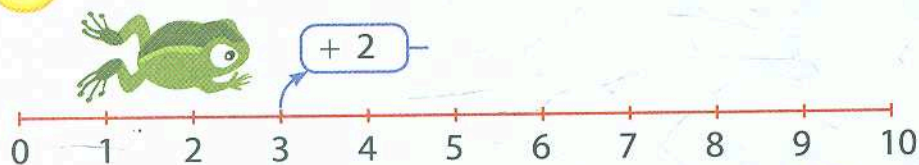
$$\begin{array}{l}
 - 2 \\
 3 - 2 = 1 \\
 4 - 2 = 2 \\
 5 - 2 = 3 \\
 6 - 2 = 4 \\
 7 - 2 = 5 \\
 8 - 2 = 6 \\
 9 - 2 = 7 \\
 10 - 2 = 8
 \end{array}$$



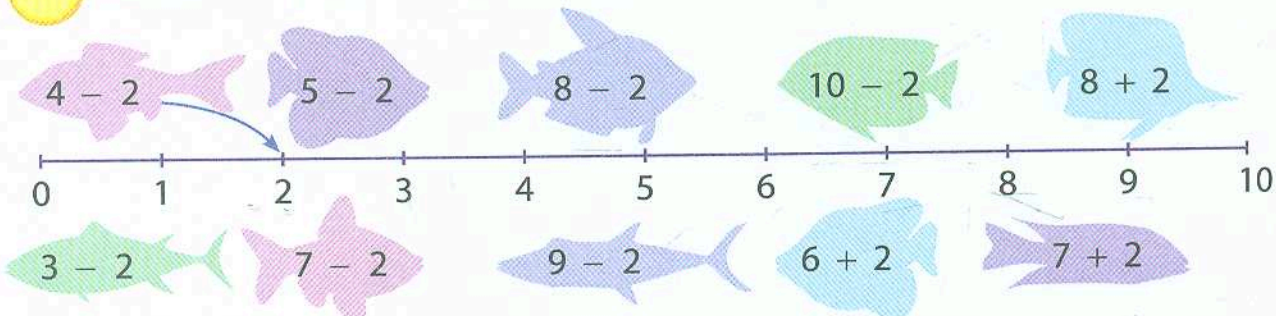
Мишко

Давай! А можна 2?

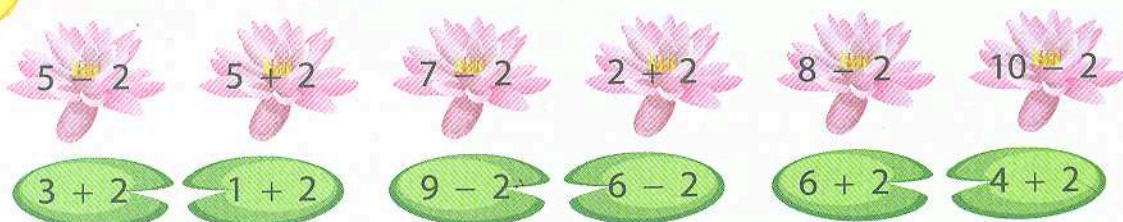
Склади та розв'яжи приклади за числовими відрізками.



Обчисли вирази та покажи відповіді за зразком.



Розв'яжи. З'єднай приклади з однаковими відповідями.







Заповни таблиці.

Збільшити на 2	1	4	7	2	5	8	6	3
Зменшити на 2	9	6	4	10	7	3	5	8



Двійка «сховалася» за малюнками. Зможеш розв'язати?

$4 + \heartsuit + \heartsuit = \square$

$8 + \blacktriangle - 1 = \square$

$5 + \blacksquare + 1 = \square$

$9 - \blacklozenge - 1 = \square$

$7 - \bullet - \bullet = \square$

$6 - \star + 1 = \square$

$\blacklozenge + \blacklozenge + \blacklozenge = \square$

$9 - \odot + 1 = \square$

$7 + \blacksquare - 1 = \square$



Обчисли та порівняй. Постав знаки  $>$  або  $<$ .

$3 + 2 \square 8$

$7 \square 6 + 2$

$3 - 2 \square 3 + 2$

$8 - 2 \square 4$

$6 \square 5 + 2$

$9 - 2 \square 10 - 2$

$10 - 2 \square 7$

$10 \square 4 + 2$

$2 + 2 \square 5 - 2$



Прочитай та розв'яжи задачі.

У Мишка було 10 наліпок із динозаврами. 2 наліпки він подарував Юлі. Скільки наліпок залишилось у Мишка?

Розв'язання:  $\square \square \square \square \square$  ( )

Відповідь: \_\_\_ наліпок.



У їжачка було 5 грибів, а у білки — на 2 грибочки більше. Скільки грибів було у білки?

Розв'язання:  $\square \square \square \square \square$  ( )

Відповідь: \_\_\_ грибів.

### Порада батькам

Якщо ваша дитина помиляється під час додавання та віднімання, згадайте з нею способи прилічування та відлічування одиниці:

$2 + 2 = 2 + 1 + 1; 7 - 2 = 7 - 1 - 1.$

### Як тобі вдалось?











Богдан

Учора на озері  
плавало 5 лебедів...

А зранку прилетіло  
ще 3. Скільки ж  
їх тепер усього?



Софійка

+ 3

$1 + 3 = 4$

$2 + 3 = 5$

$3 + 3 = 6$

$4 + 3 = 7$

$5 + 3 = 8$

$6 + 3 = 9$

$7 + 3 = 10$

- 3

$4 - 3 = 1$

$5 - 3 = 2$

$6 - 3 = 3$

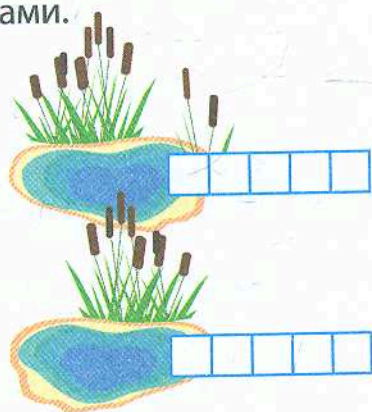
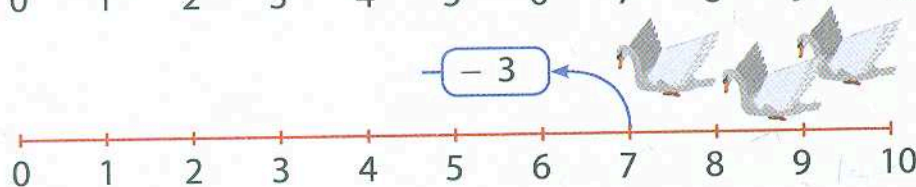
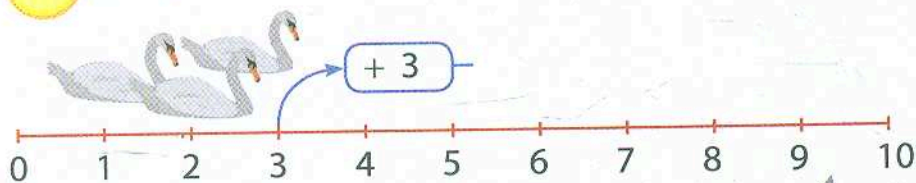
$7 - 3 = 4$

$8 - 3 = 5$

$9 - 3 = 6$

$10 - 3 = 7$

Склади та обчисли вирази за числовими відрізками.



Перевір розв'язання і виправ помилки за зразком.

9	-	3	=	6					
9	-	3	=	5					

7	-	3	=	5					
7	-	3	=	4					

6	-	3	=	5					
6	-	3	=	3					

5	-	3	=	1					
5	-	3	=	2					



3	-	3	=	3					
3	-	3	=	0					

8	-	3	=	5					
8	-	3	=	6					

4	-	3	=	1					
4	-	3	=	2					

10	-	3	=	6					
10	-	3	=	7					

Впиши пропущений доданок.



	+	3	=	
--	---	---	---	--



	+	3	=	
--	---	---	---	--



	+	3	=	
--	---	---	---	--



	+	3	=	
--	---	---	---	--



	+	3	=	
--	---	---	---	--






Нумо перевіряємо, за скільки хвилин ти заповниш таблиці. Запиши результати на годинниках.

Доданок	5	3	7	2	4	6
Доданок	3	3	3	3	3	3
Сума						

Зменшуване	9	7	10	6	8	5
Від'ємник	3	3	3	3	3	3
Різниця						



Обчисли вирази. Розфарбуй малюнок за відповідями-підказками.

$6 + 3 + 1 =$

$7 - 3 - 2 =$

$7 + 3 - 2 =$

$3 + 3 + 0 =$

$8 - 3 - 1 =$

$5 - 3 + 1 =$




Прочитай та розв'яжи задачу.

Софійка взяла до школи 3 банани, а Богдан — стільки ж яблук. Скільки всього фруктів у друзів?

Розв'язання:     ( )

Відповідь: \_\_\_ фруктів.



### Порада батькам

Запропонуйте дитині створити плакат із вивченими таблицями та повісьте його у її кімнаті. Домашня начісність допоможе краще і швидше засвоїти напам'ять упорядковані таблиці.

### Як тобі вдалось?

