

① Запиши в кожному ряді ще п'ять чисел.

1, 2, 3, , , , , 17, 18, 19, , , , ,

37, 38, 39, , , , ,

93, 94, 95, , , , ,

② Обчисли.

$7 + 3 - 5 = \square\square$ $8 - 4 + 2 = \square\square$ $10 + 0 + 15 = \square\square\square$

$20 - 10 + 5 = \square\square$ $14 - 4 - 4 = \square\square$ $89 + 10 + 1 = \square\square\square$

③ Запиши за зразком.

$37 = 30 + 7$

$17 = \square\square\square$


$99 = \square\square\square$

$78 = \square\square\square$

$11 = \square\square\square$

$45 = \square\square\square$

④ Із яких цифр складено малюнок? Запиши, скільки їх.



1

2

3

4

5

6

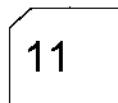

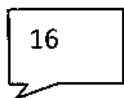
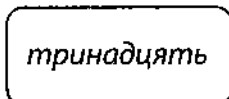
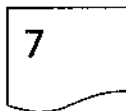
7

8



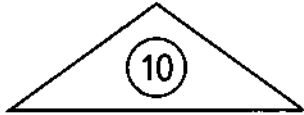
9

0

⑤ Зафарбуй етикетки з номерами від 12 до сімнадцяти.



- 1 Кожний вираз помісти (запиши) у свій «будиночок».

					
$18 - 10$					
$18 - 10$	$6 + 3$	$10 + 0$	$10 - 2$	$7 + 2$	$2 + 8$
$20 - 10$	$5 + 5$	$10 - 1$	$4 + 4$	$19 - 10$	$6 + 2$

- 2 Розклади на розрядні доданки кожне число.

$67 = \square\square\square\square$	$33 = \square\square\square\square$	$21 = \square\square\square\square$
$46 = \square\square\square\square$	$54 = \square\square\square\square$	$15 = \square\square\square\square$

- 3 Використай попереднє завдання й обчисли суми.

$67 + 21 = 60 + 20 + 7 + 1 = 80 + 8 = \square\square$
 $46 + 33 = \square\square\square\square\square\square\square\square$
 $54 + 15 = \square\square\square\square\square\square\square\square$

- 4 Лисичка спекла торт і розрізала його на 8 шматочків. 6 шматочків вона віднесла вовкові. Скільки шматочків торта залишилося в лисички?



$\square\square\square\square\square\square\square\square\square\square\square\square\square\square$
 Відповідь: $\square\square\square\square\square\square$

- 5 Фігури, у яких знаходяться числа від 19 до 29, зафарбуй голубим кольором, від 30 до 39 — зеленими, від 40 до 49 — червоним, від 50 до 59 — жовтим.

