

# 2x

$2 \times 1 = 2$

$2 \times 2 = 4$

$2 \times 3 = 6$

$2 \times 4 = 8$

$2 \times 5 = 10$

$2 \times 6 = 12$

$2 \times 7 = 14$

$2 \times 8 = 16$

$2 \times 9 = 18$

$2 \times 10 = 20$

Рахуючи двійками  
(парами),  
ти називаєш  
відповіді таблиці  
множення  
числа 2.




Скільки рукавичок?

$2 \times 3 = \square$




Скільки ковзанів?

$2 \times \square = \square$



Скільки спиць?

$2 \times 5 = \square$



Скільки колес?


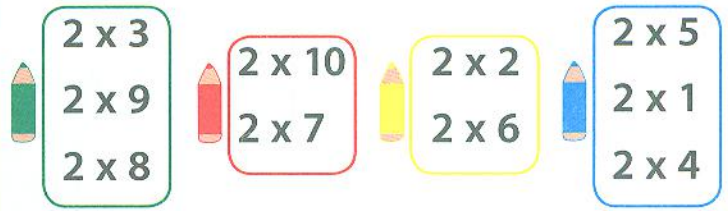
$2 \times \square = \square$

Яким листочком поласує кожен черв'ячок? Знайди приклади з однаковими відповідями. Зафарбуй листячко в колір черв'ячка.



Зафарбуй неправильні відповіді за зразком.

Розв'яжи приклади та розфарбуй черепашку за кольоровим кодом.



Скільки вишень має бути на кожній тарілці? Число у квіточці тобі підкаже. Домалюй вишні пари.

