

8x

8 x 1 = 8

8 x 2 = 16

8 x 3 = 24

8 x 4 = 32

8 x 5 = 40

8 x 6 = 48

8 x 7 = 56

8 x 8 = 64

8 x 9 = 72


8 x 10 = 80

Скільки зірок?



8 x 3 =


Скільки кружечків?



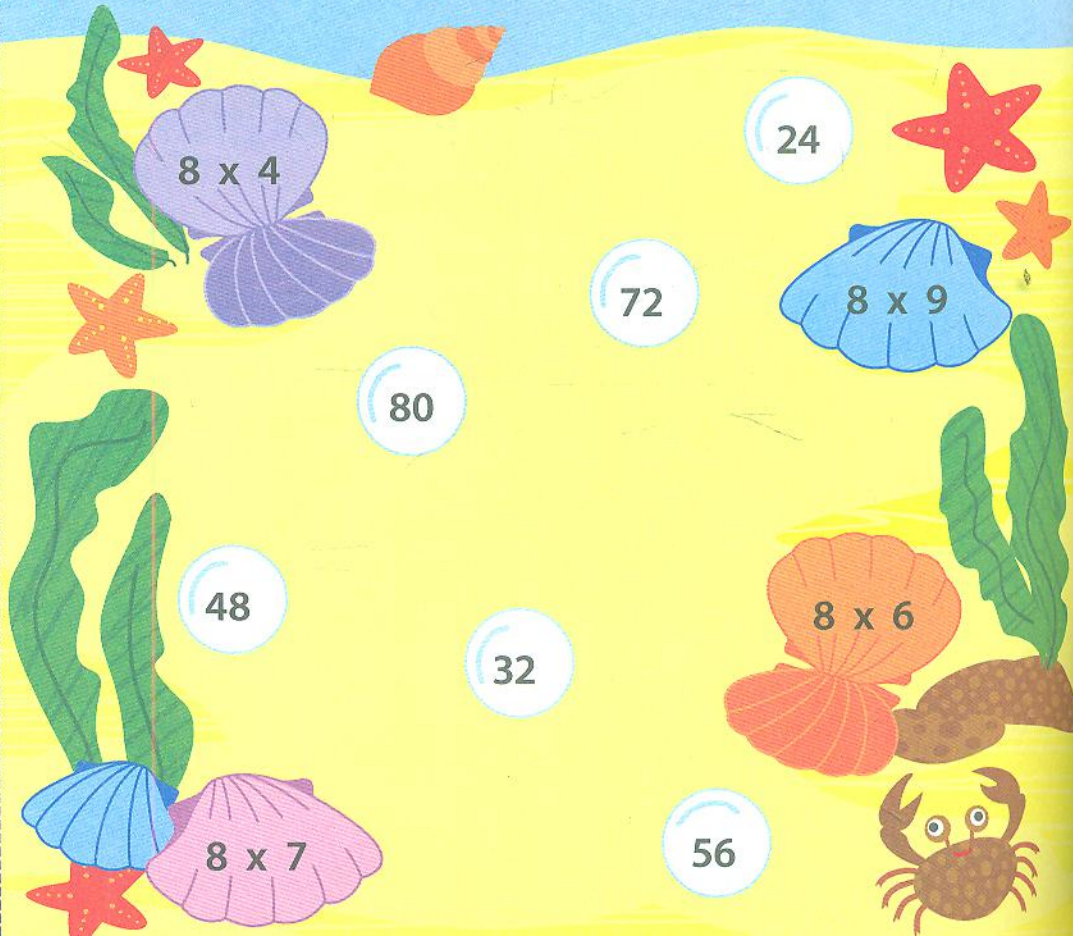
8 x =

Скільки м'ячиків?

8 x =



Для кожної мушлі знайди перлину з відповіддю. З'єднай.



8 x 4

24

8 x 9

72

80

48

8 x 6

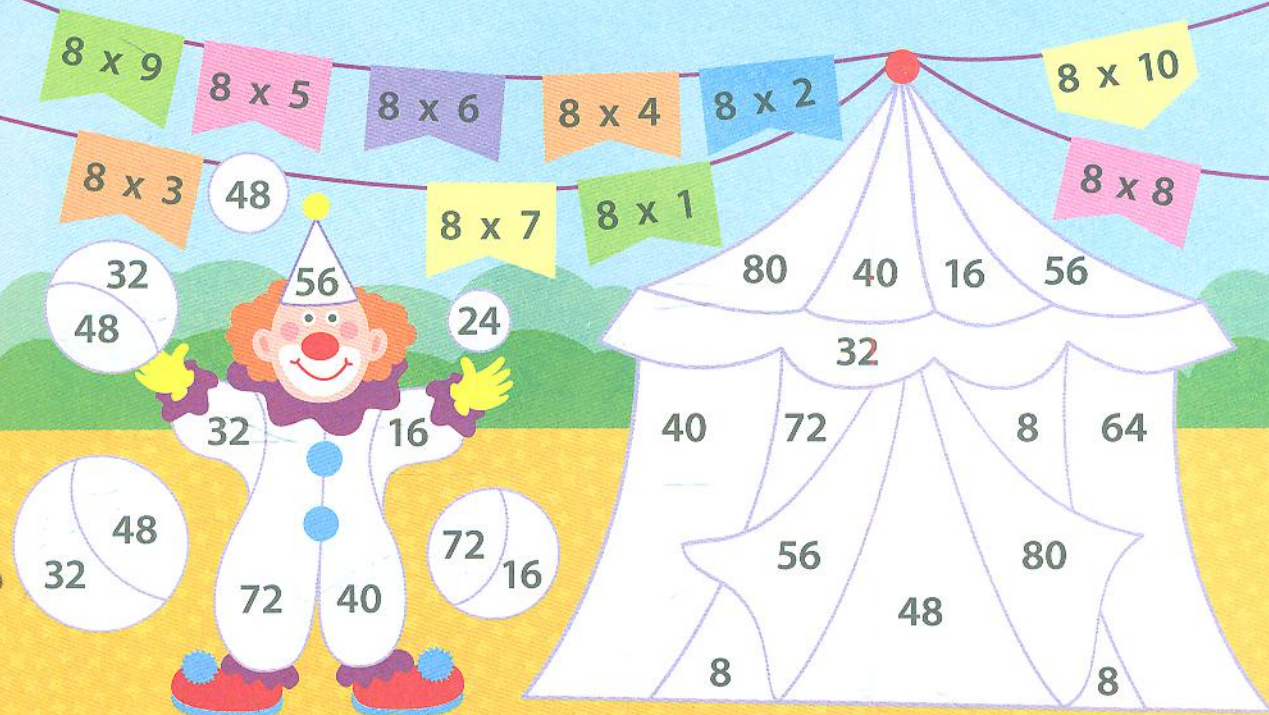
32

8 x 7

56

Підказочка!
Останні цифри
у відповідях
повторюються:
8, 6, 4, 2, 0
8, 6, 4, 2, 0

Обчисли вирази. Розфарбуй малюнок у відповідні кольори.



Гонщик долає відстань між прапорцями за 8 секунд. Запиши час на кожному прапорці. Через скільки секунд гонщик фінішує?

