


ЗАВДАННЯ

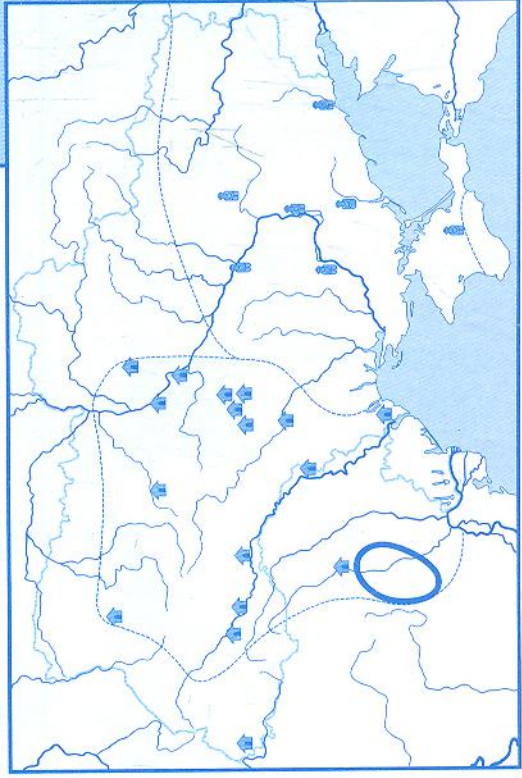
1. На карті світу різними кольорами розфарбуй район «родючого півмісяця», де виникло землеробство, і територію сучасної України. Стрілочкою познач шлях проникнення давніх землеробів на українські землі.
2. На карті світу надлиши назви річок: Тигр, Євфрат, Інд, Ганг, Янцзи, Хуанхе, Ніл, Дніпро.
3. На карті України:
 - зафарбуй район зародження трипільської культури;
 - окресли червоним кольором терени трипільської культури часів найбільшого її поширення;
 - познач протоміста давніх трипільців;
 - обведи зеленим кольором кордони сучасної України.



900 км



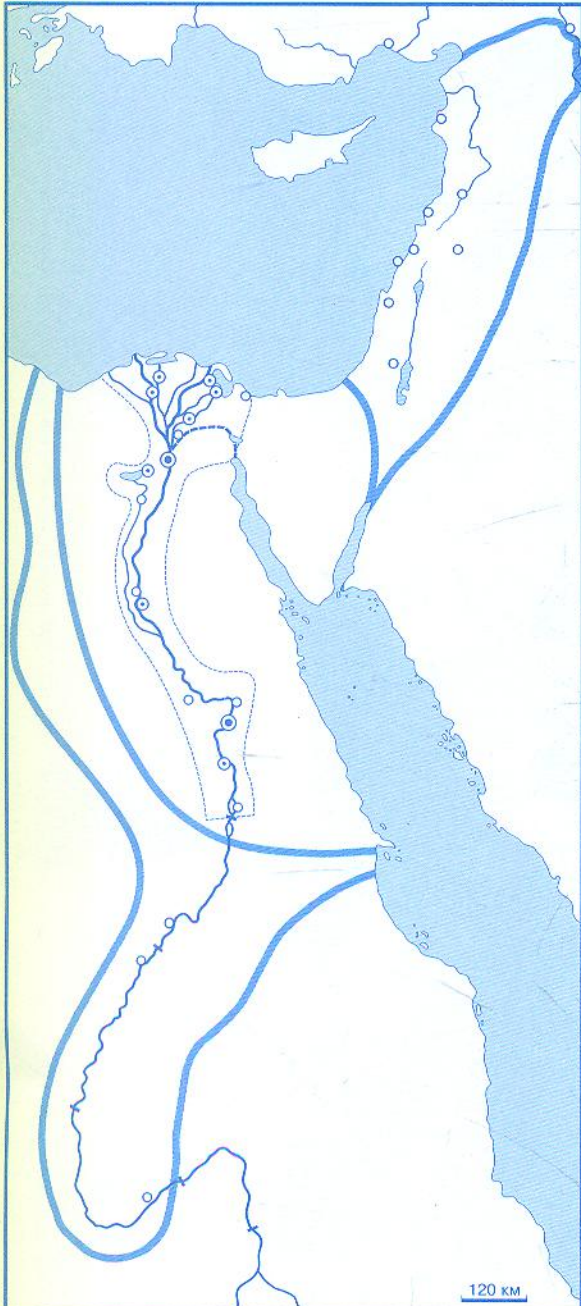
ПОЧАТОК ЗЕМЛЕРОБСТВА НА ТЕРЕНАХ УКРАЇНИ. ТРИПІЛЬСЬКА КУЛЬТУРА



130 км

ЦИВІЛІЗАЦІЇ СТАРОДАВНЬОГО СХОДУ

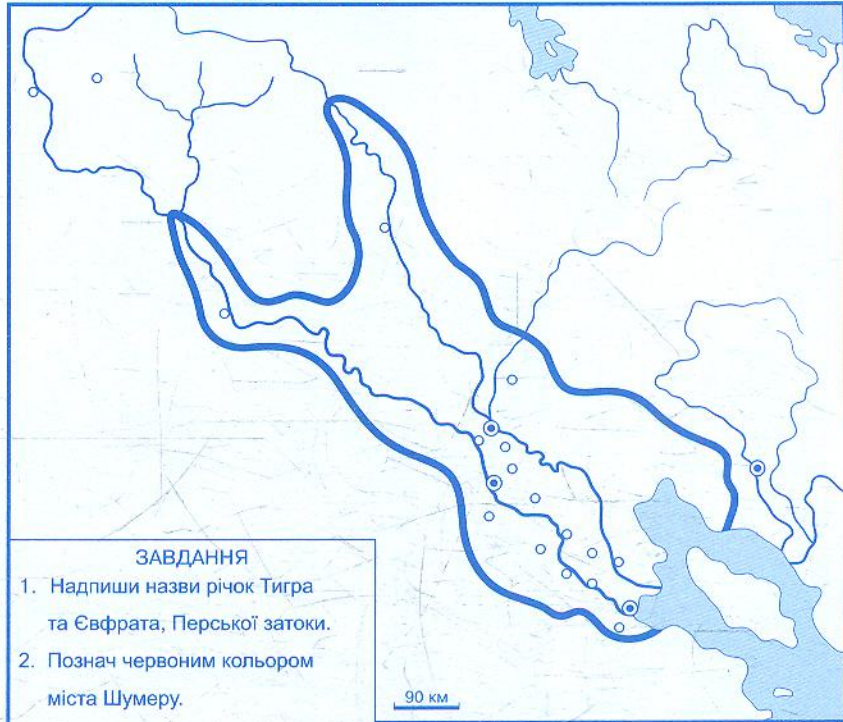
ДАВНІЙ ЄГИПЕТ



ЗАВДАННЯ

1. Надпиши назву річки Ніл, Середземного та Червоного морів.
2. Зафарбуй територію Об'єднаного Єгипетського царства в III тис. до н. е. Тим самим кольором обведи кордони Єгипту за часів найбільшого територіального зростання в XV ст. до н. е.
3. Надпиши назви країн: Нижній Єгипет, Верхній Єгипет, Нубія.
4. Надпиши назви міст Мемфіс і Фіви.
5. Познач район пірамід.

НАЙДАВНІШІ ЦИВІЛІЗАЦІЇ ДВОРІЧЧЯ. ШУМЕР. ДАВНЬОВАВИЛОНСЬКЕ ЦАРСТВО



ЗАВДАННЯ

1. Надпиши назви річок Тигра та Євфрата, Перської затоки.
2. Познач червоним кольором міста Шумеру.
3. Надпиши назви міст: Ур, Урук, Ніппур, Вавилон.
4. Обведи межі Давньовавилонського царства за часів правління Хаммурапі (XVIII ст. до н. е.).

АССИРИЯ



ЗАВДАННЯ

1. Познач та надпиши назви столиць давньої Ассирії, місто Вавилон.
2. Надпиши назву річки Тигр.
3. Обведи і зафарбуй територію Ассирії в XV ст. до н. е. та надпиши її назву.
4. Обведи межі Ассирійського царства в першій половині VII ст. до н. е.