

1. Запиши всі числа восьмого десятка.

2. Запиши кожне число у вигляді суми розрядних доданків.

$67 = \square\square + \square$

$85 = \square\square\square$

$33 = \square\square\square$

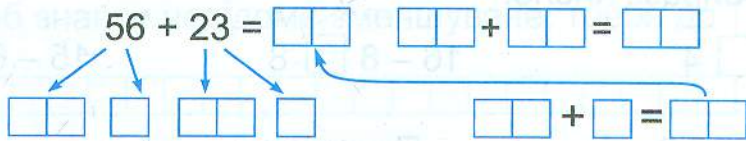
3. $38 + 1 - 30 = \square\square\square$

$79 + (41 - 40) = \square\square\square$

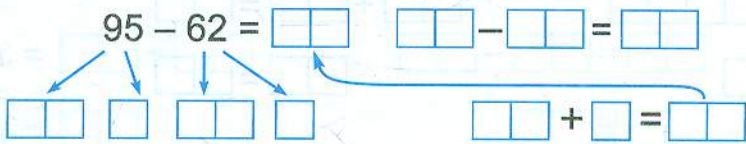
$65 - (10 - 5) = \square\square\square$

$70 - (91 - 90) = \square\square\square$


4. $56 + 23 = \square\square$ $\square\square + \square\square = \square\square$ $\square + \square = \square$



5. $95 - 62 = \square\square$ $\square\square - \square\square = \square\square$ $\square - \square = \square$



6. Знайди периметр лише прямокутника.



Відповідь: $\square\square\square\square\square\square\square\square\square\square\square\square\square\square\square\square\square\square\square\square\square\square$



1. $6 + 7 = \square \square$ $\square + \square = \square \square$ $\square \square + \square = \square \square$
 $\begin{array}{c} \swarrow \quad \searrow \\ \square \quad \square \end{array}$
 $14 - 9 = \square \square$ $\square \square - \square = \square \square$ $\square \square - \square = \square \square$
 $\begin{array}{c} \swarrow \quad \searrow \\ \square \quad \square \end{array}$

2. Виконай додавання і перевір відніманням.

$43 + 24 = \square \square \rightarrow \square \square - \square \square = \square \square$

$72 + 16 = \square \square \rightarrow \square \square \square \square \square \square$

3. Порівняй вираз і число.

$12 - 9 \square 4$

$16 - 8 \square 8$

$15 - 6 \square 8$

4. $42 + x = 56$

Перевірка:


$x = \square \square \square \square$

$\square \square + \square \square = \square \square$

$x = \square \square$

$\square \square = \square \square$

5. Коли з бочки вилили 45 л води, у ній залишилось на 13 л менше, ніж вилили. Скільки літрів води було в бочці спочатку?



Відповідь: $\square \square \square \square \square \square \square \square \square \square \square \square \square \square \square \square \square \square \square \square$

1. $63 + 7 = \square\square\square$ $71 + 9 = \square\square\square$ $5 + 35 = \square\square\square$

$20 - 6 = \square\square\square$ $90 - 8 = \square\square\square$ $40 - 3 = \square\square\square$

2. $57 + 6 = \square\square\square$ $25 + 8 = \square\square\square$ $82 + 9 = \square\square\square$

$91 - 4 = \square\square\square$ $42 - 7 = \square\square\square$ $34 - 8 = \square\square\square$

3. Відними і виконай перевірку.

$49 - 23 = \square\square \rightarrow \square\square + \square\square = \square\square$

$68 - 46 = \square\square \rightarrow \square\square\square\square\square\square\square\square$

4. Щоб знайти невідоме зменшуване, треба до $\square\square\square\square\square$

$\square\square\square\square\square\square\square\square\square\square\square\square\square\square\square\square\square\square\square\square\square\square$


5. $x - 17 = 12$

Перевірка:

$x = \square\square + \square\square$ $\square\square - \square\square = \square\square$

$x = \square\square$ $\square\square = \square\square$

6. Накресли відрізок, на 1 дм коротший, ніж 20 см.



1. Щоб знайти невідомий від'ємник, треба від

2. Розв'яжи рівняння.

$$48 - x = 13$$

$$x = \boxed{} \boxed{} \boxed{} \boxed{}$$

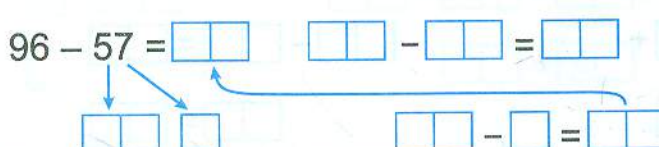
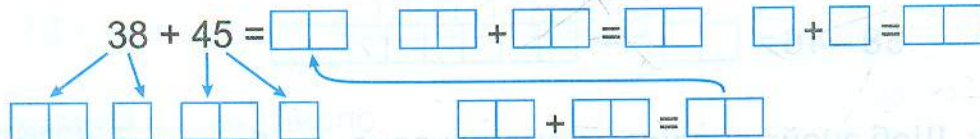
$$x = \boxed{} \boxed{}$$

Перевірка:

$$\boxed{} \boxed{} - \boxed{} \boxed{} = \boxed{} \boxed{}$$

$$\boxed{} \boxed{} = \boxed{} \boxed{}$$

3. $38 + 45 = \boxed{} \boxed{}$ $\boxed{} \boxed{} + \boxed{} \boxed{} = \boxed{} \boxed{}$ $\boxed{} + \boxed{} = \boxed{} \boxed{}$



4. У мамі було 80 грн. Вона купила пачку масла за 18 грн і пачку пельменів за 27 грн. Скільки грошей залишилось у мамі?

I спосіб

II спосіб

1)

2)

1)

2)

Відповідь: