

1 Виконай завдання.

1) Запиши пропущені числа.

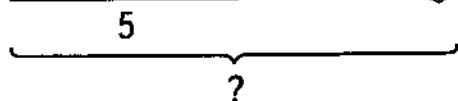
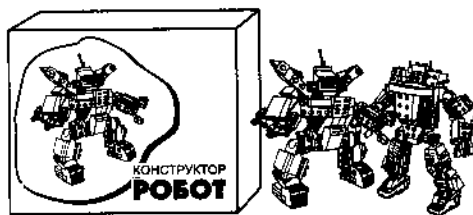
69	<input type="text"/>	71	72	<input type="text"/>	<input type="text"/>	75	<input type="text"/>	<input type="text"/>	78	<input type="text"/>	<input type="text"/>
----	----------------------	----	----	----------------------	----------------------	----	----------------------	----------------------	----	----------------------	----------------------

2) Запиши число у вигляді суми розрядних доданків.

$$47 = \square\square + \square$$

3) Запиши число, в якому 8 десятків і 3 одиниці.

2 Склади і розв'яжи задачі.




Розв'язання

<input type="text"/>	<input type="text"/>	<input type="text"/>	<input type="text"/>	<input type="text"/>	<input type="text"/>	<input type="text"/>	<input type="text"/>	<input type="text"/>	<input type="text"/>
----------------------	----------------------	----------------------	----------------------	----------------------	----------------------	----------------------	----------------------	----------------------	----------------------

Відповідь: роботів
було у Тарасика.

Було — 5 роботів.

Продали —



Залишилося — ?


Розв'язання

<input type="text"/>	<input type="text"/>	<input type="text"/>	<input type="text"/>	<input type="text"/>	<input type="text"/>	<input type="text"/>	<input type="text"/>	<input type="text"/>	<input type="text"/>
----------------------	----------------------	----------------------	----------------------	----------------------	----------------------	----------------------	----------------------	----------------------	----------------------

Відповідь: роботи
залишилося в магазині.

3 Обчисли.

$$45 + 23 = \square\square$$



$$79 - 18 = \square\square$$



$$85 - 64 = \square\square$$



4* Запиши числа восьмого десятка, більші від числа, у якому 7 десятків 4 одиниці.

<input type="text"/>	<input type="text"/>	<input type="text"/>	<input type="text"/>	<input type="text"/>	<input type="text"/>	<input type="text"/>	<input type="text"/>	<input type="text"/>	<input type="text"/>	<input type="text"/>	<input type="text"/>	<input type="text"/>	<input type="text"/>	<input type="text"/>	<input type="text"/>	<input type="text"/>	<input type="text"/>	<input type="text"/>	<input type="text"/>
----------------------	----------------------	----------------------	----------------------	----------------------	----------------------	----------------------	----------------------	----------------------	----------------------	----------------------	----------------------	----------------------	----------------------	----------------------	----------------------	----------------------	----------------------	----------------------	----------------------

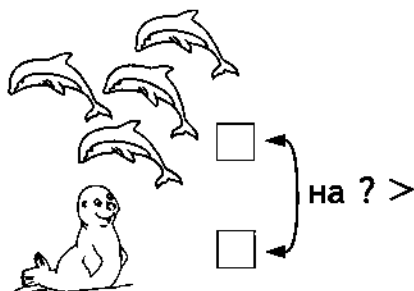




1 Запиши вирази. Знайди їх значення.

- 1) До 31 додати 9.
- 2) Сума чисел 19 та 70.
- 3) Перший доданок 23, другий — 62.
- 4) Від 56 відняти 6.
- 5) Різниця чисел 84 та 50.


2 Склади і розв'яжи задачі.



Розв'язання

--	--	--	--	--	--	--	--	--	--

Відповідь: на дельфіни більше.



8 рибок

Розв'язання

--	--	--	--	--	--	--	--	--	--

Відповідь: рибки сховалося.

3 Обчисли. До кожної рівності на додавання склади по дві рівності на віднімання.

$36 + 53 = \square\square$

$60 + 27 = \square\square$

$15 + 74 = \square\square$

--	--	--	--	--	--	--	--	--	--

--	--	--	--	--	--	--	--	--	--

--	--	--	--	--	--	--	--	--	--

--	--	--	--	--	--	--	--	--	--

--	--	--	--	--	--	--	--	--	--

--	--	--	--	--	--	--	--	--	--

* Полічи трикутники. Запиши їх кількість. Відповідь: трикутників.

