

Н.О. Будна
М.В. Беденко

МАТЕМАТИКА

Робочий зошит №2

4 клас

*(до підручника «Математика. 4 клас»
авт. Будна Н.О., Беденко М.В.)*



ТЕРНОПІЛЬ
НАВЧАЛЬНА КНИГА – БОГДАН

ББК 22.1я71
Б90

Рецензенти:
кандидат педагогічних наук, доцент
М.В. Козак
вчитель вищої категорії, старший вчитель
Н.Я. Походжай

Будна Н.О., Беденко М.В.

Б90 Математика: Робочий зошит №2. 4 клас
(до підручника «Математика. 4 клас», авт. Будна Н.О., Беденко М.В.). —
Тернопіль: Навчальна книга–Богдан, 2011. — 64 с.

ISBN 978-966-10-1637-7

Зошит з математики для 4 класу містить навчальний матеріал, який відповідає чинній програмі Міністерства освіти і науки України та Державному стандарту початкової загальної освіти.

Робочий зошит №2 охоплює теми “Множення і ділення багатоцифрових чисел. Площа фігури”, “Ознайомлення з дробами”, “Множення і ділення багатоцифрових чисел на двоцифрове число”, “Міри часу”.

Зошит призначено для учнів 4 класу.


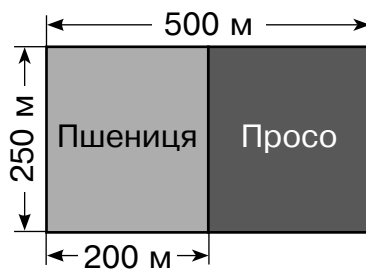
ББК 22.1я71

*Охороняється законом про авторське право.
Жодна частина цього видання не може бути відтворена
в будь-якому вигляді без дозволу автора чи видавництва.*


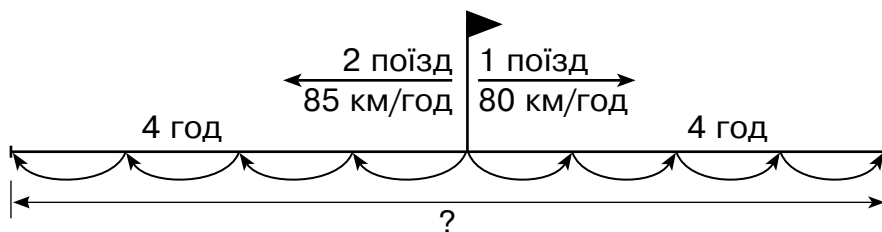
ISBN 978-966-10-1637-7

© Навчальна книга – Богдан,
майнові права, 2011


- 1 За поданим планом ділянки знайди площу, засіяну просом.



- 2 Склади і розв'яжи задачу за схемою.




- 3 Висота будиночка 4 м 8 см. Обведи дерево заввишки 4 м 8 дм.

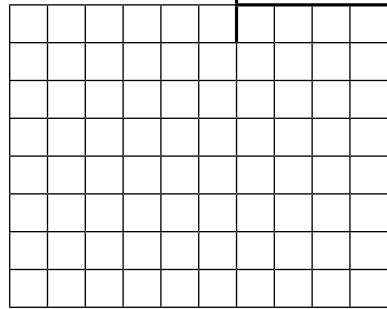


1

1 0 1 4 3 | 3




2 4 6 7 8 | 6




2

За поданим планом ділянки знайди площу, відведену для кожного виду овочів.



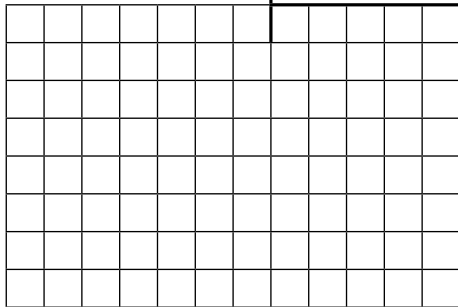
3

Висота будиночка втричі менша від одного з дерев. Знайди його й обведи.

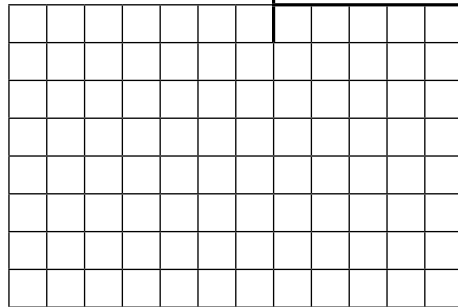


1

4 9 5 0 9 0 | 9




2 8 2 3 8 0 | 7




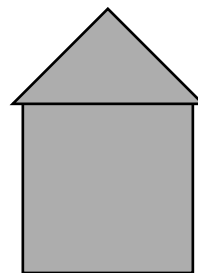
2

Одного дня катер плив 4 год, а другого — 5 год. За два дні він подолав 414 км. Скільки кілометрів пропливав катер кожного дня, якщо його швидкість не мінялася?



3

Будиночок збудували з квадрата, сторона якого 5 см, і половинки квадрата зі стороною 4 см. Знайди площу отриманої фігури.





Навчальне видання

БУДНА Наталя Олександрівна
БЕДЕНКО Марко Васильович

МАТЕМАТИКА
Робочий зошит №2
4 клас

Головний редактор *Богдан Будний*
Редактор *Любов Левчук*
Художник *Світлана Бялас*
Обкладинка *Ростислава Крамара*
Комп'ютерна верстка *Надії Магальяс*

Підписано до друку 14.01.2011. Формат 70x100/16.
Папір офсетний. Гарнітура Прагматика.
Умовн. друк. арк. 5,20 Умовн. фарбо – відб. 5,20.

Видавництво «Навчальна книга – Богдан»
Свідоцтво про внесення до Державного реєстру видавців
ДК №370 від 21.03.2001 р.

Навчальна книга – Богдан, а/с 529, м. Тернопіль, 46008
тел./факс (0352) 52-06-07, 52-05-48, 52-19-66
publishing@budny.te.ua, office@bohdan – books.com
www.bohdan – books.com

ISBN 978-966-10-1637-7

