
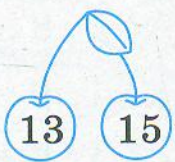





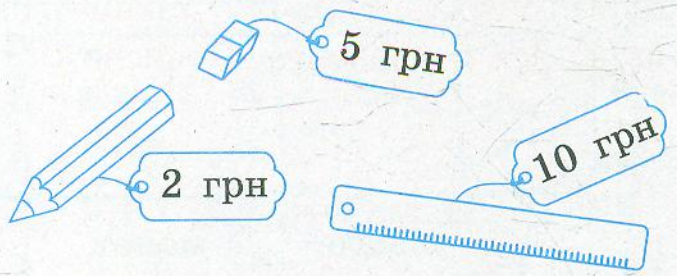
ПОВТОРЕННЯ ВИВЧЕНОГО В 1 КЛАСІ

33	•	33	•																	
----	---	----	---	--	--	--	--	--	--	--	--	--	--	--	--	--	--	--	--	--





1 Розфарбуй у кожній парі вишеньку, на якій написано більше число.



2 Обчисли вартість двох будь-яких предметів. Запиши всі можливі варіанти поєднань товарів.



3 Обчисли вирази. Упиши відповіді. Розфарбуй квітки із найбільшим і найменшим значеннями.





- 1 Яку дію слід виконати з числами? Упиши відповідні знаки на дахах. Обчисли.

Збільш

10 на 5

16 на 3

10 на 9

Зменш

15 на 4

17 на 7

19 на 2

- 2 Склади задачу за малюнком. Доповни її таким словом, щоб вона розв'язувалася додаванням. Обчисли.



Відповідь: кг яблук у другому ящику.

- 3 Виміряй довжину відрізка. см

Накресли відрізок, коротший на 3 см.

