



3. Купили олівець за 3 грн і гумку за 6 грн. Скільки гривень заплатили за покупку?

4. $5 + 2$ $3 - 1$ $10 - 7$ $7 + 0$ $4 + 2$
 $5 + 3$ $3 - 2$ $10 - 8$ $7 - 0$ $4 - 2$

5. Скільки прямих зображено на малюнку? А відрізків? А променів?




6. $1 + 1$ $3 + 1$ $10 - 1$ $8 - 1$ $6 - 1$
 $2 + 1$ $4 + 1$ $9 - 1$ $7 - 1$ $5 - 1$

7. З відпочинку на морі Улянка привезла 5 камінчиків і 4 мушлі. Скільки всього камінчиків і мушель привезла Улянка з відпочинку?



8. Розглянь малюнок. Опиши ситуацію. Дай відповіді на запитання.



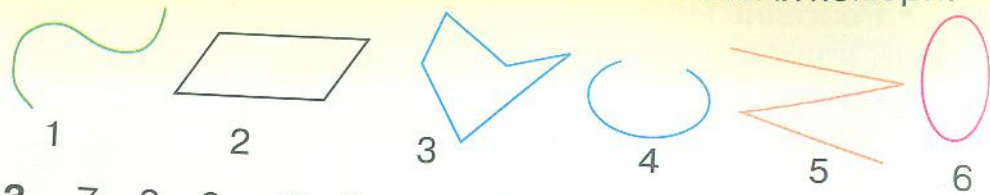
1) Скільки тварин зображено на малюнку?
 2) Якого кольору квіти? Скільки квіток кожного кольору?

• Прочитай вирази, складені за малюнком. Що можна дізнатися, обчисливши ці вирази?
 $6 + 3$ $9 - 6$ $9 - 3$ $1 + 1 + 1$

9. $3 + 5 - 6$ $7 + 3 - 5$ $10 - 5 + 1$ $9 - 9 + 4$
 $7 - 4 + 3$ $9 - 3 + 3$ $10 - 8 + 0$ $7 - 0 + 2$

10. Микиті купили 10 олівців. Він уже використав 3 олівці. Скільки олівців залишилося в Микити?


11. **Зміни текст так, щоб утворилася задача.**
 Матвій зібрав 2 кошики малини, а Іринка — 3 кошики. Малина — дуже смачна ягода.



13. $7 - 2 - 2$ $2 + 6 + 1$ $10 - 4 - 3$ $6 + 0 - 4$
 $8 + 2 - 4$ $7 - 5 + 2$ $3 - 0 + 3$ $8 - 3 + 5$

14. У дітей було 10 грн. На зошити вони витратили 8 грн. Скільки гривень залишилося в дітей?

15. Скільки сомів на малюнку? Скільки щук? Яких риб більше? Запиши нерівність.



16. Порівняй.
 $5 > 3$ $8 > 7$ $7 - 3 < 5$ $7 > 10 - 3$
 $0 < 9$ $6 < 0$ $3 + 4 < 9$ $0 < 8 + 1$

17. Обчисли ланцюжком по колу.
 $7 - 4$ $8 - 3$ $5 + 4$ $9 - 2$ $6 + 2$ $3 + 3$

Зразок. $7 - 4 = 3$ $3 + 3 = 6$ $6 + 2 = \square$

Останнім у цьому ланцюжку буде вираз, який матиме значення 7.



18. Прочитай задачу. Для кожної задачі визнач дію, за якою її можна розв'язати. Розв'яжи задачу, у якій треба виконати дію віднімання.

- У Мирослави було 5 грн і 2 грн. Скільки всього гривень було в Мирослави?
- У Мирослави було 5 грн. Вона купила олівець за 2 грн. Скільки гривень залишилось у Мирослави?

19. Форму якої фігури має кожний предмет у кімнаті?



20. Порівняй.
 $7 > 10 - 5$ $8 - 7 < 1$ $8 + 1 < 8 - 1$
 $3 < 10 + 0$ $3 + 2 < 3$ $6 + 0 < 6 - 0$

21. На обідньому столі лежало 3 ложки. Офіціант поклав ще стільки само ложок. Скільки ложок стало на столі?

22. Скільки яєць у кожному лотку? У якому лотку яєць найбільше? Склади й запиши нерівності.

