

У мене п'ять олівців. Як би це записати?



Мишко

- Множина — це група чимось подібних предметів.
- Кількість предметів у групі (множині) виражають числом.

- Числа використовують під час лічби предметів.
- Записують числа спеціальними знаками — цифрами. Цифр усього десять: 1, 2, 3, 4, 5, 6, 7, 8, 9 та 0 (нуль).



Софійка

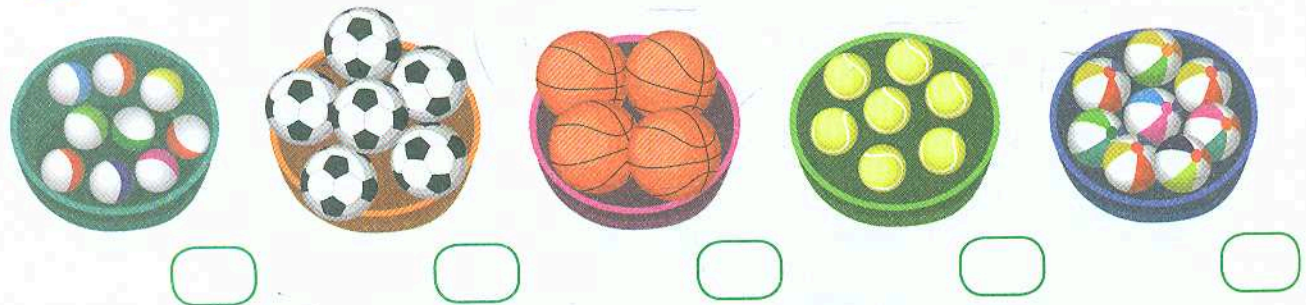
Авжеж, цифрою!



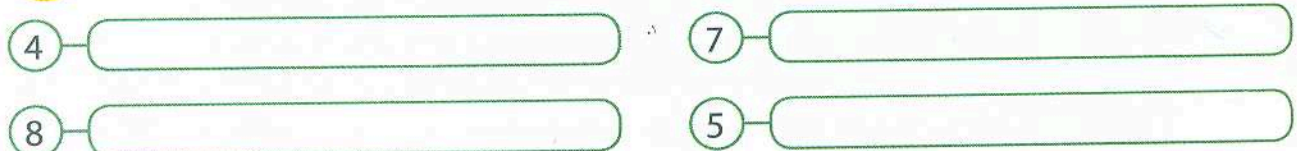
Об'єднай малюнки за формою в групи (множини). Скільки предметів у кожній групі? З'єднай із потрібним числом.



Запиши цифрами, скільки м'ячів у кожному кошику.



Назви цифри. Намалюй стільки ж предметів.






Зафарбууй стільки кнопок, скільки показує цифра.



8



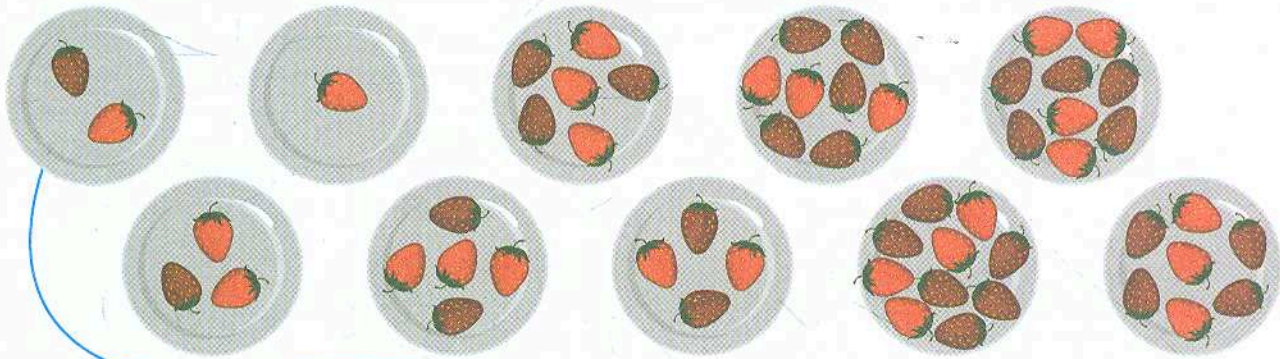
3



7




Порахуй ягоди на кожній тарілці та покажи відповідь за зразком.

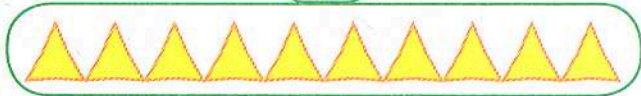


Скільки трикутників у кожній групі? А скільки показує цифра? Закресли зайві трикутники.


5



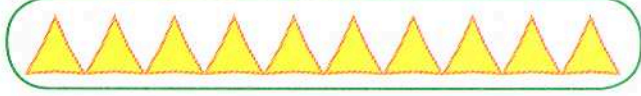
7



8



4



Порада батькам

Зверніть увагу дитини на різницю між поняттями «число» і «цифра». Числами ми називаємо кількість предметів, а цифрами — записуємо.

Як тобі вдалось?







• Під час лічби вживають спеціальні слова.

- Щоб дізнатися, скільки всього предметів, використовують слова **один, два, три, чотири** тощо.
- Щоб назвати, який предмет по порядку, вживають слова **перший, другий, третій, четвертий** та інші.

Ми поїдемо на екскурсію в четвертому вагоні. Отже, їх усього чотири?

Не обов'язково. Просто наш вагон стоїть четвертим по порядку.



Артем



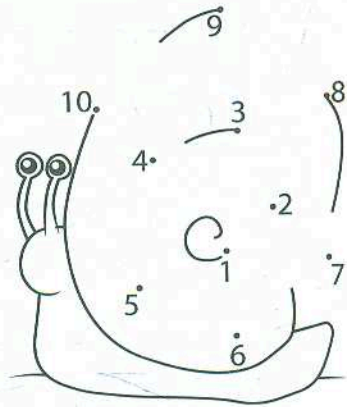
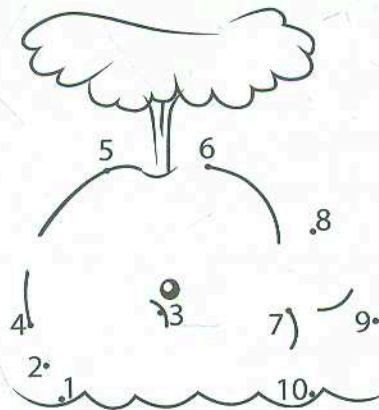
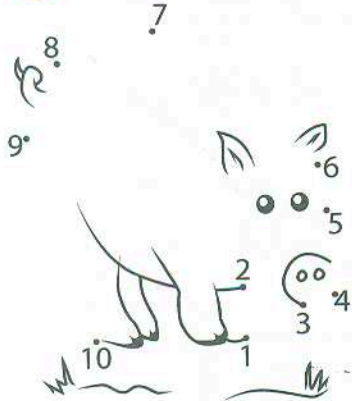
Юля

Поеднай за зразком.





	2	один
	3	два
	1	три
	5	п'ять

	7	шість
	6	сім
	8	вісім
	4	чотири

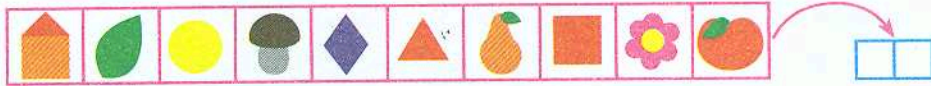
Хто на малюнках? Дізнайся, з'єднавши крапки по порядку.



Полічи дерева по порядку. Скільки їх? Розфарбуй друге зліва дерево. Закресли перше справа.



Скільки всього предметів у ряді? Запиши цифрами.



Знайди і намалюй предмет, який стоїть:

- третім від початку ;
- четвертим від початку ;
- другим від кінця ;
- п'ятим від кінця .

Скільки звіряток їде в потязі? Назви їх по порядку від початку до кінця. Розфарбуй тваринку із третього вагону. Назви пасажирів від кінця. Хто тепер у третьому вагоні? Обведи.



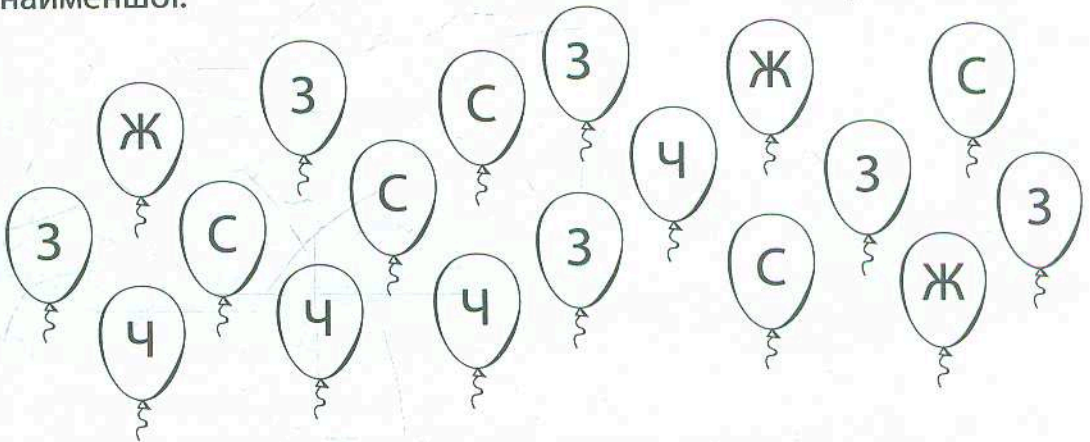
Розфарбуй повітряні кульки за підказками. Скільки кульок кожного кольору? Запиши цифрами. Розташуй цифри в клітинках по порядку від найменшої.

4 —

3 —

Ж —

С —



Порада батькам

Якщо дитина плутає кількісну лічбу з порядковою, допомагайте їй навідними запитаннями. Наприклад: «Скільки кульок усього?» (Шість.) «Котра це кулька по порядку?» (Третя.)

Як тобі вдалось?